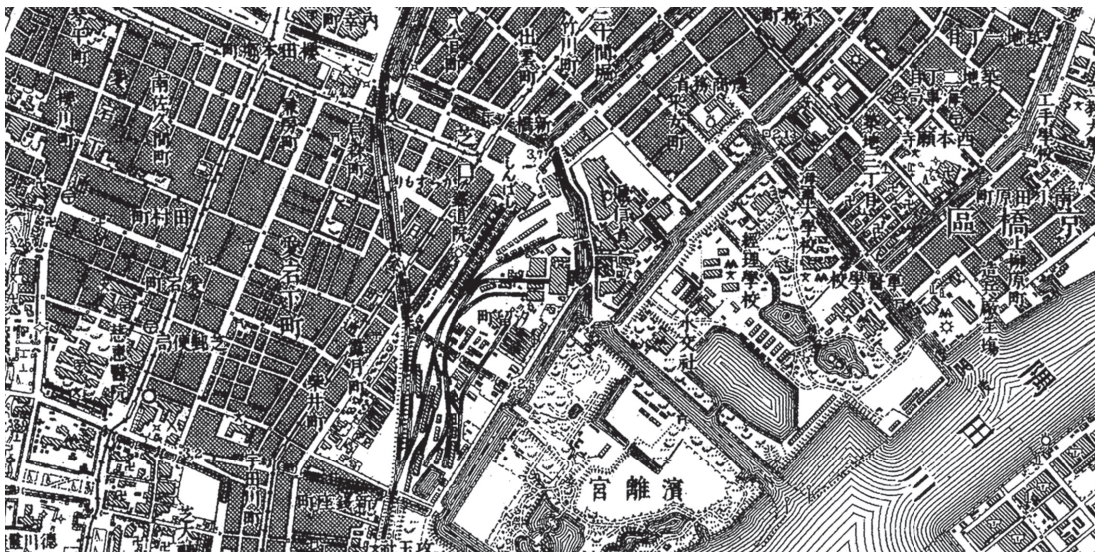


1 2022年は日本で鉄道が開通してから150年を迎えた年でした。これに関するあとの問いに答えなさい。

問1 日本の鉄道のはじまりは、明治時代初期にさかのぼります。これについて、次の(1)・(2)にそれぞれ答えなさい。

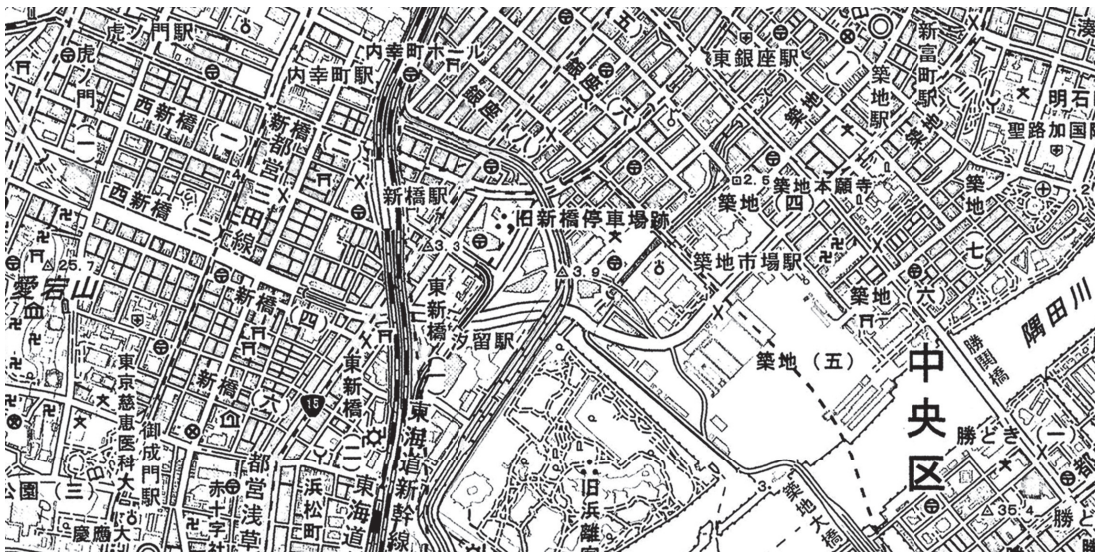
(1) 次の【地図1】～【地図4】は、1872年に日本で開業した新橋駅と横浜駅の周辺について、【地図1】と【地図3】は明治時代に測量された地形図を、【地図2】と【地図4】は近年発行された地形図を示したものです。これらの【地図】について説明した文としてふさわしくないものを、次のA～Fの中からすべて選んでアルファベットで答えなさい。

【地図1】




(国土地理院2万正式図より作成)

【地図2】



(国土地理院2万5千分の1地形図より作成)

【地図3】



(国土地理院2万正式図より作成)

【地図4】



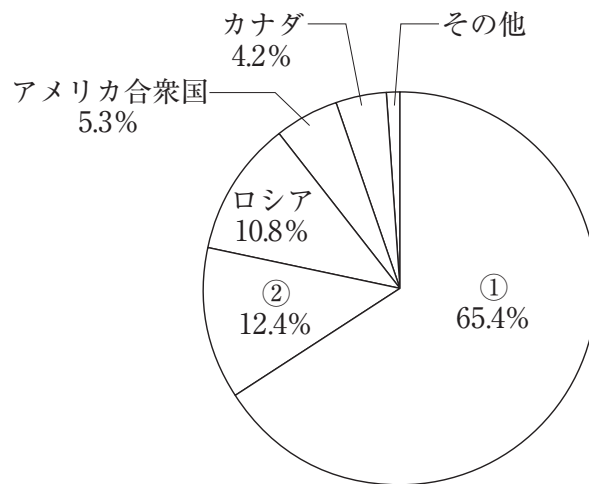
(国土地理院2万5千分の1地形図より作成)

- A 【地図1】と【地図2】をみると、現在の「新橋」駅とかつての「しんばし」駅の場所は変化していないことがわかる。
- B 【地図1】と【地図2】をみると、「経理学校」や「海軍大学校」の跡地付近に、「築地市場」駅がつくられたことがわかる。
- C 【地図1】と【地図2】をみると、「隅田川」に橋がかかるようになり、対岸への移動がしやすくなったことがわかる。
- D 【地図3】と【地図4】をみると、現在の「横浜」駅の西側周辺は、かつて内海が広がっていたことがわかる。
- E 【地図3】と【地図4】をみると、「大棧橋」ふ頭が整備され、大型船が着岸しやすくなったことがわかる。
- F 【地図3】と【地図4】をみると、かつて水田であったところが開発され、「臨港パーク」などがつくられたことがわかる。

(2) 鉄道開業当初、日本では蒸気機関車が運行されていました。蒸気機関車は「ある化石燃料」を燃やした熱で水を沸騰させ、そのとき発生する蒸気の力を利用して車輪を動かしました。次の(あ)・(い)の文は、2種類の化石燃料の特徴を述べたものです。また、次の【資料】は、その「ある化石燃料」について、現在の日本の主な輸入先(2021年)を示したものです。「ある化石燃料」の特徴と【資料】中の①・②の国の組み合わせとして正しいものを、次のA～Lの中からひとつ選んでアルファベットで答えなさい。

- (あ) 地中に堆積した古代の植物が、地中の圧力や地熱の影響を受けて分解・炭化したものであり、運搬しづらく、エネルギー効率も悪く、二酸化炭素排出量も多いが、資源量が豊富で供給も安定的である。
- (い) 燃焼時に発生する二酸化炭素や窒素酸化物が少なく、硫黄酸化物も含まないので、環境負荷が少ないクリーンエネルギーといわれる。

【資料】



(矢野恒太記念会『日本国勢図会』より作成)

- | | | | |
|---|----------|-------------|-------------|
| A | 特徴 - (あ) | ① - オーストラリア | ② - サウジアラビア |
| B | 特徴 - (あ) | ① - オーストラリア | ② - インドネシア |
| C | 特徴 - (あ) | ① - サウジアラビア | ② - オーストラリア |
| D | 特徴 - (あ) | ① - サウジアラビア | ② - インドネシア |
| E | 特徴 - (あ) | ① - インドネシア | ② - オーストラリア |
| F | 特徴 - (あ) | ① - インドネシア | ② - サウジアラビア |
| G | 特徴 - (い) | ① - オーストラリア | ② - サウジアラビア |
| H | 特徴 - (い) | ① - オーストラリア | ② - インドネシア |
| I | 特徴 - (い) | ① - サウジアラビア | ② - オーストラリア |
| J | 特徴 - (い) | ① - サウジアラビア | ② - インドネシア |
| K | 特徴 - (い) | ① - インドネシア | ② - オーストラリア |
| L | 特徴 - (い) | ① - インドネシア | ② - サウジアラビア |

問2 1889年には東海道本線が全線開通となり、新橋・神戸間が鉄道で結ばれました。次の【地図】は、現在の東海道本線の一部と周辺の鉄道路線について、その路線や主要な駅、沿線の地形の起伏を示したものです。これについて、次の(1)・(2)にそれぞれ答えなさい。

【地図】



(地理院地図より作成)

(1) 次の【資料1】は、明治時代に作詞された『鉄道唱歌』の第1集(東海道篇)の一部を示したものであり、これは当時の東海道本線の沿線の様子を七五調で歌ったものです。この【資料1】をみると、明治時代の東海道本線と、現在の東海道本線の違いがわかります。【地図】を参考に、【資料1】中の空欄(あ)～(う)にあてはまる地名の組み合わせとして正しいものを、次のA～Hの中からひとつ選んでアルファベットで答えなさい。

- | | | | |
|---|-----------|----------|----------|
| A | (あ) - 平塚 | (い) - 富士 | (う) - 沼津 |
| B | (あ) - 平塚 | (い) - 富士 | (う) - 熱海 |
| C | (あ) - 平塚 | (い) - 箱根 | (う) - 沼津 |
| D | (あ) - 平塚 | (い) - 箱根 | (う) - 熱海 |
| E | (あ) - 国府津 | (い) - 富士 | (う) - 沼津 |
| F | (あ) - 国府津 | (い) - 富士 | (う) - 熱海 |
| G | (あ) - 国府津 | (い) - 箱根 | (う) - 沼津 |
| H | (あ) - 国府津 | (い) - 箱根 | (う) - 熱海 |

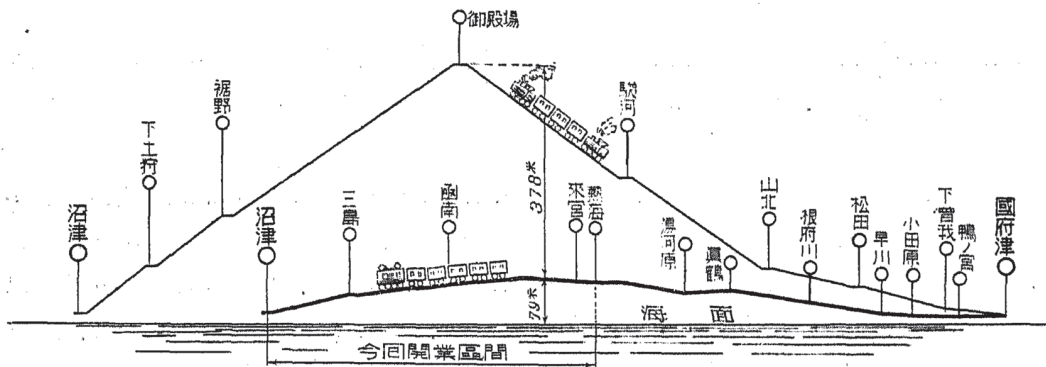
【資料1】

- 一 汽笛一声新橋を はや我汽車は離れたり
 愛宕の山に入りのこる 月を帰路の友として
 (中略)
- 一二 (あ) おるれば馬車ありて 酒匂小田原とほからず
 箱根八里の山道も あれ見よ雲の間より
- 一三 いでてはくぐるトンネルの 前後は山北小山駅
 今もわすれぬ鉄橋の 下ゆく水のおもしろさ
- 一四 はるかにみえし (い) の嶺は はや我そばに來りたり
 雪の冠雲の帯 いつもけだかき姿にて
- 一五 ここぞ御殿場夏ならば われも登山をこころみん
 高さは一万数千尺 十三州もただ一目
- 一六 三島は近年ひらけたる 豆相線路のわかれみち
 駅には此地の名を得たる 官幣大社の宮居あり
- 一七 (う) の海に聞えたる 里は牛伏我入道
 春は花咲く桃のころ 夏はずずしき海のそば
 (後略)

(大和田建樹作詞『鉄道唱歌』より)

(2) 【地図】 中の丹那盆地では、かつてはわさびの栽培が盛んでしたが、現在では生産者がほとんどいなくなっています。この背景には、現在のリニア中央新幹線の工事に対して静岡県が懸念している問題と通じる部分があります。次の【資料2】と【資料3】も参考に、東海道本線の変化と丹那盆地でのわさび生産の衰退の関係性について、文章で説明しなさい。なお、【資料2】は1936年に当時の鉄道省がまとめた資料であり、東海道本線上で1934年に完成した「ある建造物」の工事の際に作成されたものです。【資料3】は静岡県がまとめた、わさびの栽培に関する資料です。

【資料2】



(鉄道省熱海建設事務所編『丹那隧道工事誌』より)

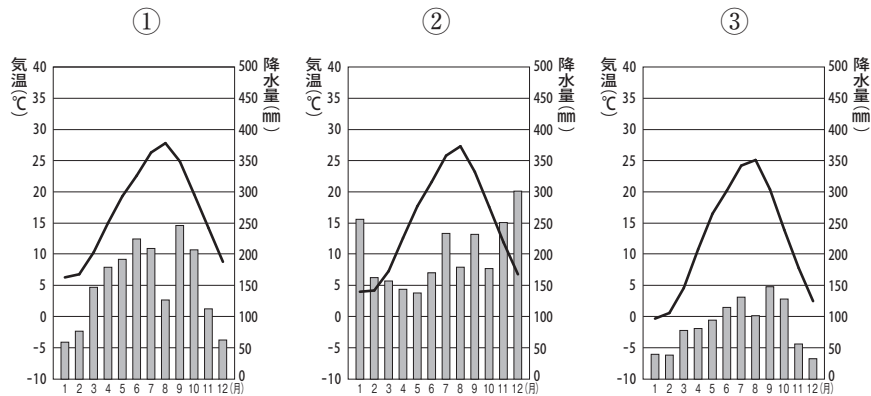
[資料3]

静岡県は、栽培発祥から現在に至るまで、わさび産地として日本一を誇る。(中略)近年は、日本各地で栽培が行われているが、静岡県のわさび栽培地域は、多量の降雨や地質に恵まれた自然環境を有し、年間を通じて13℃前後の湧水が豊富に湧き出しているため、栽培適地として優れており、収量・品質ともに日本一の座を守り続けている。ただし、それらの背景には、人々の鋭意努力や創意工夫があったことも明らか。その意味で、静岡水わさびの伝統栽培は、清流の恵みと人智の結晶と言えるだろう。

(「世界農業遺産・日本農業遺産 静岡水わさびの伝統栽培」ホームページより)

問3 鉄道の延伸が進んだことで、多くの人々が鉄道を使って様々な観光地を訪れるようになりました。次の【資料】中の①～③は、観光地として知られる金沢市、浜松市、松本市の月別の平均気温と降水量を示したものです。①～③の都市名の組み合わせとして正しいものを、次のA～Fの中からひとつ選んでアルファベットで答えなさい。

[資料]



(国立天文台『理科年表』より作成)

- | | | | |
|----------|-------|-------|-------|
| A | ①－金沢市 | ②－浜松市 | ③－松本市 |
| B | ①－金沢市 | ②－松本市 | ③－浜松市 |
| C | ①－浜松市 | ②－金沢市 | ③－松本市 |
| D | ①－浜松市 | ②－松本市 | ③－金沢市 |
| E | ①－松本市 | ②－金沢市 | ③－浜松市 |
| F | ①－松本市 | ②－浜松市 | ③－金沢市 |

問4 かつての日本国有鉄道は1987年に分割民営化がおこなわれ、現在では6つの旅客鉄道会社と1つの貨物鉄道会社となっています。これについて、次の(1)・(2)にそれぞれ答えなさい。

- (1) 次の【地図】は、6つの旅客鉄道会社の営業^{はんい}範囲を示したものであり、次の【資料】中のA～Dは、そのうちの東日本旅客鉄道（JR東日本）、東海旅客鉄道（JR東海）、北海道旅客鉄道（JR北海道）、四国旅客鉄道（JR四国）について、年間旅客営業キロ数と旅客運輸収入を示したものです。北海道旅客鉄道（JR北海道）を示したものを、【資料】中のA～Dの中からひとつ選んでアルファベットで答えなさい。

【地図】



(読売新聞オンラインの資料をもとに作成)

【資料】

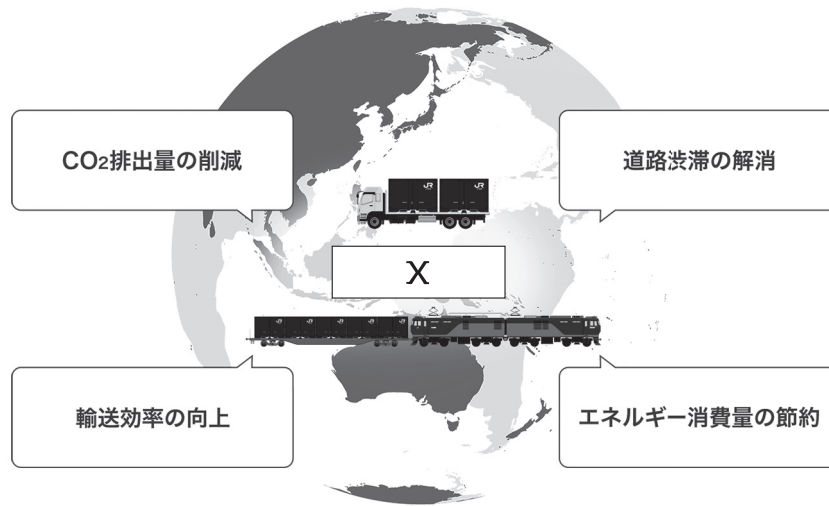
	年間旅客営業キロ数 (km)	旅客運輸収入 (千円)
A	7,401.7	1,792,801,567
B	1,970.8	1,365,640,845
C	2,535.9	70,607,550
D	855.2	22,462,664

※年間旅客営業キロ数とは、鉄道会社やバス会社における営業区間の距離^{きょり}をキロメートル単位で表したものである。

(鉄道統計年報（令和元年度）より作成)

- (2) 次の【資料】は、「ある取り組み」を推進するために、日本貨物鉄道（JR貨物）のホームページで示されているものです。【資料】中の空欄 にあてはまる取り組みを、カタカナで答えなさい。

【資料】

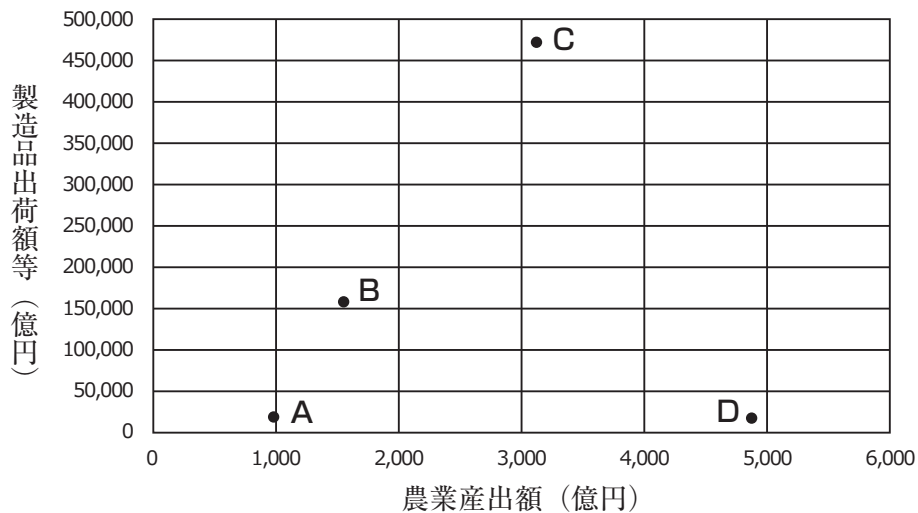


(日本貨物鉄道（JR貨物）のホームページより)

問5 鉄道は運転時刻を定めて走行します。日本では明治時代に正確な時刻を定めるために標準時が設けられました。そして日本の標準時を設けるために、兵庫県明石市を通る東経135度線が日本の標準時子午線に定められました。兵庫県や明石市に関連して、次の(1)・(2)にそれぞれ答えなさい。

- (1) 次の【資料】中のA～Dは、兵庫県、愛知県、徳島県、鹿児島^{しゅうか}のいずれかの農業産出額（2018年）と製造品出荷額等（2017年）を示したものです。兵庫県を示したものを、【資料】中のA～Dの中からひとつ選んでアルファベットで答えなさい。

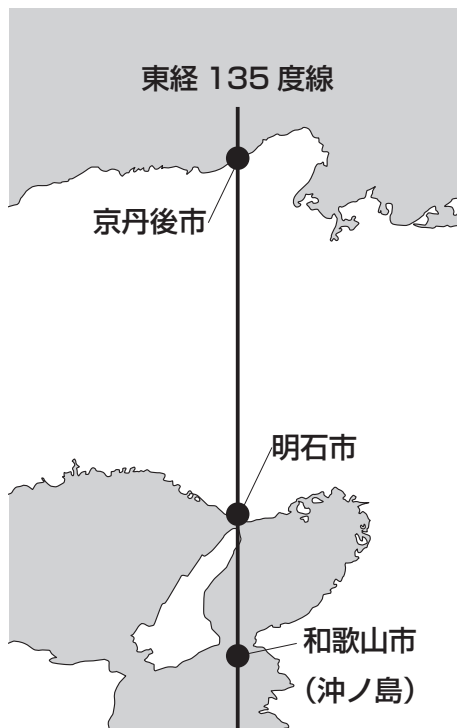
【資料】



(矢野恒太記念会『日本国勢図会』より作成)

(2) 東経135度線は、兵庫県明石市を含む12市町村を通ります。次の【地図】は、東経135度線を表示する標識やモニュメントが建っている地点を示しています。次の【資料】中の①～③は、明石市、京丹後市、和歌山市の人口増減率（2020年から2021年にかけて）、65歳以上人口割合（2021年）、第1次産業就業者割合（2015年）を示したものです。①～③と都市名との組み合わせとして正しいものを、次のA～Fの中からひとつ選んでアルファベットで答えなさい。

【地図】



【資料】

	人口増減率 (%)	65歳以上人口割合 (%)	第1次産業就業者割合 (%)
①	-0.48	30.5	2.0
②	-1.30	36.4	8.6
③	0.14	26.1	1.1

(矢野恒太記念会『データでみる県勢』より作成)

- | | | | |
|----------|----------|----------|----------|
| A | ① - 明石市 | ② - 京丹後市 | ③ - 和歌山市 |
| B | ① - 明石市 | ② - 和歌山市 | ③ - 京丹後市 |
| C | ① - 京丹後市 | ② - 明石市 | ③ - 和歌山市 |
| D | ① - 京丹後市 | ② - 和歌山市 | ③ - 明石市 |
| E | ① - 和歌山市 | ② - 明石市 | ③ - 京丹後市 |
| F | ① - 和歌山市 | ② - 京丹後市 | ③ - 明石市 |

2 次の会話は、洗足学園の中学1年生が「世界とのつながりからみる日本の歴史」というテーマで話し合ったものです。これを読んで、あとの問いに答えなさい。

春香 日本列島と世界とのつながりが分かる古い史料のひとつに、『後漢書』東夷伝が挙げられます。倭の奴国の王が漢に使者を送ったことや、(ア) 当時の皇帝から金印を授かったことが記されています。

夏美 その後の隋や唐にも使節が送られて、(イ) 中国を通して政治体制やさまざまな文化を受容したそうです。

秋恵 かつての中国には、自らの国家と文化を優れたものとして世界の中心であると位置づけて、周辺の家や民族を未開・野蛮な「夷狄」とする考え方があったようです。古代の日本において、国家の支配に組み込まれていない東北地方の人々が政府によって (ウ) とよばれていたことも、この考え方からくるものとされています。

冬子 そのような考え方も中国の影響を受けていたのですね。そういえば、唐が衰退して滅んだあとの混乱期を経て、宋が成立したのですね。宋と日本はどのような関係だったのでしょうか。

秋恵 宋とは、正式な国交は結ばれませんでした。民間商人による貿易はおこなわれました。平清盛によって大輪田泊が修築され、日宋貿易が発展したほか、僧侶が宋に渡ってさまざまな文化を日本に持ち帰っています。宋は12世紀に一度滅ぼされています。時期によって北宋・南宋とよばれるようになりました。

春香 その後の中国大陸を支配したのは、モンゴル民族ですね。各地に兵を送って支配下におき、国号を中国風に改めて元としました。(エ) 日本に元軍が襲来したことは、元寇とよばれています。漢民族による中国の統一を回復させたのは、その後の明です。(オ) 日本と明との貿易は、勘合貿易としても知られています。

夏美 15世紀ごろまでは (カ) アジアとのやり取りばかりですね。ヨーロッパ人が初めて日本にやってきたのは、16世紀のことと考えられています。南蛮人が日本にやってきて、南蛮貿易が盛んにおこなわれました。

秋恵 その「南蛮」というよび方も、中華思想の影響を受けているそうですよ。

春香 そうなのですね。知らずに使って使っていました。ヨーロッパとのやり取りは、どのように展開したのですか。

冬子 江戸時代になると、1624年には (ア) あ 船の、1639年には (イ) い 船の来航が禁止されて、ヨーロッパのうち (ウ) う だけが日本との貿易を認められました。

夏美 そのころの日本は、(エ) う 商館長からの報告書によって、諸外国の情報を得ていたといいます。18世紀になると、(カ) 洋書の輸入が緩和されて、西洋技術の導入が進んだそうです。漢文に翻訳されていて、キリスト教に関係ない書籍であれば、輸入が許可されました。

冬子 江戸時代の終わりごろには、日本と外国の関係を大きく変える出来事が多数起こりました。幕府は、異国船打払令によって (キ) え 船のモリソン号を追い払いましたが、清が (ク) お とのアヘン戦争に敗北すると、異国船打払令を撤回して薪水給与令を出しました。その後、和親条約や通商条約が結ばれて開国しました。しばらくして幕府が倒れて明治政府が誕生しました。

秋恵 西洋に追いつこうと近代化を進めた日本では、政治制度や学問、生活に至るまで、さまざまところで西洋の影響を受けていました。(ウ) 大日本帝国憲法も、ドイツの憲法を手本につくられています。

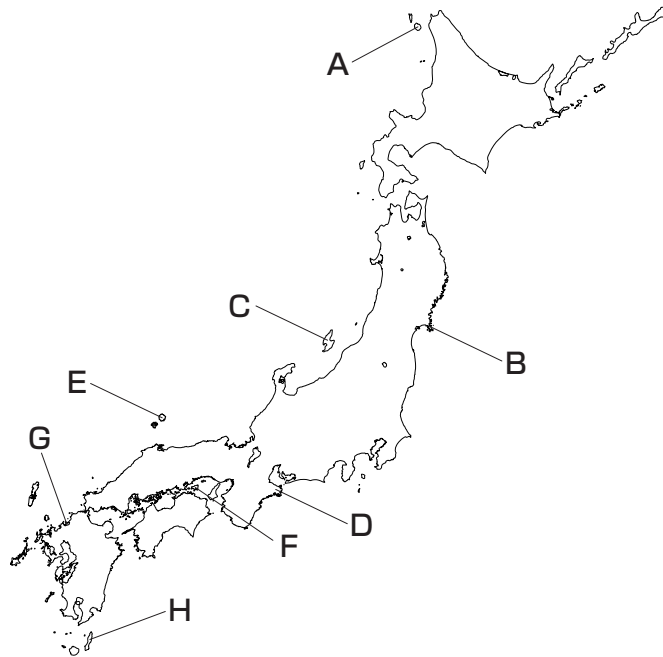
春香 長らく外国との関わりを制限してきた日本は、開国や明治維新を通して、急速に外国との関わりが広がるのですね。

秋恵 その通りです。20世紀以降も、(ケ) 日本はさまざまな利害関係にもとづいて諸外国と協力や対立を繰り返していきます。

冬子 現代の社会が抱える諸課題を知るためにも、世界と日本のつながりを意識しながら学んでいきたいですね。

問1 下線部(ア)について、このときに授けられたと考えられる金印が発掘された場所を示したものを、次の【地図】中のA～Hの中からひとつ選んでアルファベットで答えなさい。

【地図】



問2 下線部(イ)に関連して述べた文として誤っているものを、次のA～Dの中からひとつ選んでアルファベットで答えなさい。

A 聖武天皇の遺品を納める正倉院には、西アジアなどの影響を受けた宝物も納められている。

B 『万葉集』には、漢字の音を用いて日本語を表記する、万葉仮名が使用されている。

C 行政法である律と、刑罰のきまりである令にもとづく律令制をとり入れた。

D 唐から来日した僧である鑑真により、日本に戒律が伝えられた。

問3 空欄(ウ)にあてはまる語句を、漢字で答えなさい。

問4 下線部(工)は、御恩と奉公からなる、将軍と御家人の関係が崩れたきっかけのひとつであると考えられています。なぜ、元寇によって将軍と御家人の関係が崩れたのですか。次の語句を用いて文章で説明しなさい。

[御恩 奉公 御家人]

問5 下線部(オ)について、次の【史料】に関連して述べた文としてふさわしいものの組み合わせを、次のA～Dの中からひとつ選んでアルファベットで答えなさい。

【史料】

ここに汝、日本国王である源道義は、皇帝一族を尊敬し、皇帝を愛する誠を抱いて、荒波を越えて、使いを遣わして来朝した。(略)今、使者として道彝と一如を遣わして、(略)暦の使用を許可して臣下に加え、錦と綾絹二十匹を与える。
建文四(1402)年二月初六日

※史料は、現代語訳・意識し、一部省略した部分があります。

- ① 「源道義」とは、後醍醐天皇のことを指している。
- ② 「源道義」とは、足利義満のことを指している。
- ③ (オ)は、天皇と明の皇帝との対等な関係のもとでおこなわれた。
- ④ (オ)は、将軍から明の皇帝への朝貢の形式でおこなわれた。

A ①・③ B ①・④ C ②・③ D ②・④

問6 空欄[あ]～[お]の国に関連して述べた文として正しいものを、次のA～Eの中からひとつ選んでアルファベットで答えなさい。

- A 織田信長は、[あ]のサン＝フェリペ号の宣教師の発言をきっかけに、バテレン追放令を出した。
- B 中国の倭寇の船に乗り合わせた[い]人により、日本に鉄砲が伝わった。
- C [う]の商館は、長崎の出島から平戸に移され、その地で貿易がおこなわれた。
- D [え]との間には、和親条約は結ばれなかったが、修好通商条約は結ばれた。
- E [お]の使節であるラクスマンが根室に、レザノフが長崎に来航した。

問7 下線部(力)に関連して、4人は朝鮮半島と日本との関係について4枚のカードにまとめました。4枚のカードのうち、内容の正しいものを、次のA～Dの中からひとつ選んでアルファベットで答えなさい。

A 天武天皇のころ、白村江の戦いにおいて隋と新羅の連合軍に大敗した。これをきっかけに、九州の守りを固めるための大宰府が設けられたり、山城が築かれたりした。

B 豊臣秀吉によって朝鮮出兵がおこなわれた影響^{えいきょう}で、明治時代になるまで国交が断絶していた。江戸時代に、対馬の宗氏が交渉をおこなったが、交流はおこなわれなかった。

C 江華島事件をきっかけに、日本は朝鮮との間に日朝修好条規を結んだ。日本に一方的に領事裁判権を認めるなど、朝鮮にとって不平等な内容が^{ふく}含まれていた。

D 田中角栄内閣において日韓基本条約が締結され、大韓民国を朝鮮半島の唯一の合法的な政府として国交を正常化した。その後の朝鮮戦争では、日本の経済復興のきっかけになる朝鮮特需が発生した。

問8 下線部(キ)を含む幕政改革をおこなった人物を、姓名ともに漢字^{せimei}で答えなさい。

問9 下線部(ク)について述べた文として誤^{あやま}っているものを、次のA～Dの中からひとつ選んでアルファベットで答えなさい。

- A 黒田清隆内閣のときに発布された。
- B 衆議院で審議されたのち、貴族院の承認を経て発布された。
- C 天皇は神聖不可侵であると規定された。
- D 言論や出版の自由は、法律の範囲内で認めると規定された。

問10 下線部(ケ)に関連して述べた①～③の内容の正誤の組み合わせとして正しいものを、次のA～Hの中からひとつ選んでアルファベットで答えなさい。

- ① 第一次世界大戦において、日本は日英同盟を理由に、イギリスやドイツ、オーストリア側として参戦した。
- ② 日本は、柳条湖事件に対する国際連盟^{かんこく}の勧告に反発し、国際連盟を脱退した。
- ③ 日本は、ハワイの真珠湾を攻撃し、太平洋戦争が開戦した。

- | | | | | | | | |
|---|-----|-----|-----|---|-----|-----|-----|
| A | ①－正 | ②－正 | ③－正 | B | ①－正 | ②－正 | ③－誤 |
| C | ①－正 | ②－誤 | ③－正 | D | ①－正 | ②－誤 | ③－誤 |
| E | ①－誤 | ②－正 | ③－正 | F | ①－誤 | ②－正 | ③－誤 |
| G | ①－誤 | ②－誤 | ③－正 | H | ①－誤 | ②－誤 | ③－誤 |

3 次の文章は、2022年5月3日の毎日小学生新聞に掲載された「国会で憲法議論盛んに」という記事です。これを読んで、あとの問いに答えなさい。なお、小見出しは省略し、一部ふりがなを省略した部分があります。

憲法のあり方を議論する(ア)衆議院の憲法審査会が、今年の通常国会で頻繁に開かれています。「新型コロナウイルスや(イ)ロシアによるウクライナ侵攻に、いまの憲法で対応できるのか」——。こう指摘する自民党などの国会議員が、議論を引っ張っています。憲法審査会で何がテーマになったかを振り返ります。

憲法審査会は2月10日から始まり、週1回程度のペースで開かれています。まず取り上げられたのは「国会でオンライン審議を認めるか」でした。

コロナの影響で、学校や会社のオンライン授業（または会議）が広がりましたが、オンライン審議は実施されていません。憲法56条が、国会で「議事を開き議決すること」の前提に「(ウ)議員の出席」を定めているためです。

「(コロナや災害で)やむを得ない場合は、オンラインでも『出席』と解釈すべきだ」憲法審査会では、こんな意見が多数を占めました。自民党や立憲民主党などは3月3日、「いまの憲法でも、緊急事態の発生時は、例外的にオンライン審議ができる」などとした報告書を決定しました。報告書を受け取った議長と副議長のもとで、検討が続いています。

3月中旬以降は、「大災害や戦争が起きた場合、内閣が特別な対応をとれる『緊急事態条項』を憲法に新設するか」が主な議題になりました。

「衆議院議員の任期が切れたあと、(大災害などで)長期間選挙をできなかったらどうするのか」——。(エ)憲法54条では、衆議院議員がいない場合は、(オ)参議院が国会機能を担える「(カ)」を開けると規定しています。

これについて、自民党や日本維新の会などは「ずっと参議院に任せていいのか。国会の機能が維持できるのか」と疑問視し、「緊急的に衆議院議員の任期延長をできるよう、憲法改正すべきだ」と訴えました。立憲民主党は慎重な議論を求め、共産党は反対しています。結論は出ていません。

「緊急政令」を可能とすべきだとの意見もあります。大災害や戦争のときは、新たな法律や予算を国会で成立させるゆとりがないので、内閣が、緊急の政令で施策を決めていいとの案です。

課題は、国会のチェックを経ないことです。憲法が重視する「(キ)基本的人権の尊重」などをないがしろにする施策が実施されかねません。コロナでいえば、「外出は罰金」などの施策が可能になります。自民党は議論を急ぐよう主張しますが、同じ与党の(ク)も慎重な姿勢を示しています。

問1 下線部(ア)に関連して、次の(1)・(2)にそれぞれ答えなさい。

(1) 下線部(ア)について述べた文①～③の内容の正誤の組み合わせとして正しいものを、次のA～Hの中からひとつ選んでアルファベットで答えなさい。

- ① 内閣不信任決議は衆議院のみに認められている権限である。
- ② 一般の法律案と異なり、予算は衆議院での審議・議決が先におこなわれると決まっている。
- ③ 現在、衆議院議員のうち約4割が女性である。

- | | | | | | | | |
|---|-----|-----|-----|---|-----|-----|-----|
| A | ①-正 | ②-正 | ③-正 | B | ①-正 | ②-正 | ③-誤 |
| C | ①-正 | ②-誤 | ③-正 | D | ①-正 | ②-誤 | ③-誤 |
| E | ①-誤 | ②-正 | ③-正 | F | ①-誤 | ②-正 | ③-誤 |
| G | ①-誤 | ②-誤 | ③-正 | H | ①-誤 | ②-誤 | ③-誤 |

(2) 次の【資料】は、2022年6月に発表された衆議院議員の新たな小選挙区の区割り案により小選挙区の定数が変わる都県を示したものです。このように各都道府県の小選挙区の定数を変更する理由を、【資料】から読み取れることにふれながら文章で説明しなさい。

【資料】

都県	変更前 → 変更後
宮城県	6 → 5
福島県	5 → 4
埼玉県	15 → 16
千葉県	13 → 14
東京都	25 → 30
神奈川県	18 → 20
新潟県	6 → 5
愛知県	15 → 16
滋賀県	4 → 3
和歌山県	3 → 2
岡山県	5 → 4
広島県	7 → 6
山口県	4 → 3
愛媛県	4 → 3
長崎県	4 → 3

(衆議院議員選挙区画定審議会

「衆議院小選挙区選出議員の選挙区の改定案についての勧告 参考資料」より作成)

問2 下線部(イ)に関連して、次の(1)・(2)にそれぞれ答えなさい。

- (1) ウクライナの位置を、次の【地図】中のA～Dの中からひとつ選んでアルファベットで答えなさい。

【地図】



- (2) アメリカ合衆国やヨーロッパ諸国で構成される北大西洋条約機構は、ロシアから攻撃されたウクライナを支援しました。この「北大西洋条約機構」の略称を、アルファベットで答えなさい。

問3 下線部(ウ)について、国会の本会議では会議を開くために最低限必要な出席議員数(定足数)が憲法で定められています。衆議院と参議院に欠員がない(定数を満たしている)場合、衆議院と参議院の定足数としてふさわしいものを、次のA～Hの中からひとつ選んでアルファベットで答えなさい。

A	衆議院：155	参議院：81	B	衆議院：155	参議院：83
C	衆議院：160	参議院：81	D	衆議院：160	参議院：83
E	衆議院：233	参議院：121	F	衆議院：233	参議院：124
G	衆議院：240	参議院：121	H	衆議院：240	参議院：124

問4 次の条文は下線部(工)第1項のものです。空欄 ・ にあてはまる数の組み合わせとして正しいものを、次のA~Hの中からひとつ選んでアルファベットで答えなさい。

衆議院が解散されたときは、解散の日から 日以内に、衆議院議員の総選挙を行ひ、その選挙の日から 日以内に、国会を召集しなければならない。

- | | | | | | |
|---|--------|--------|---|--------|--------|
| A | X - 三十 | Y - 二十 | B | X - 三十 | Y - 三十 |
| C | X - 三十 | Y - 四十 | D | X - 三十 | Y - 五十 |
| E | X - 四十 | Y - 二十 | F | X - 四十 | Y - 三十 |
| G | X - 四十 | Y - 四十 | H | X - 四十 | Y - 五十 |

問5 下線部(オ)に関連して、参議院議員選挙について述べた文として誤っているものを、次のA~Dの中からすべて選んでアルファベットで答えなさい。

- A 都道府県単位で選挙区が定められており、全国で47選挙区ある。
- B 比例代表選挙は、各政党の議席が得票数に応じて割り振られ、当選する順番は各政党があらかじめ決めている。
- C 選挙区と比例代表のうち、どちらか一方にしか立候補することができない。
- D 参議院議員通常選挙は3年に一度おこなわれ、半数ずつ改選している。

問6 空欄 にあてはまる語句を漢字で答えなさい。

問7 下線部(キ)に関連して、日本国憲法で保障されている自由権は、精神の自由、人身の自由、経済活動の自由の3つに分類することができます。次のA~Dはいずれも自由権として保障されています。「信教の自由」と同じ分類になるものを、次のA~Dの中からすべて選んでアルファベットで答えなさい。

- | | | | |
|---|-------|---|---------------|
| A | 学問の自由 | B | 奴隷的拘束・苦役からの自由 |
| C | 表現の自由 | D | 職業選択の自由 |

問8 空欄 にあてはまる政党を漢字で答えなさい。

