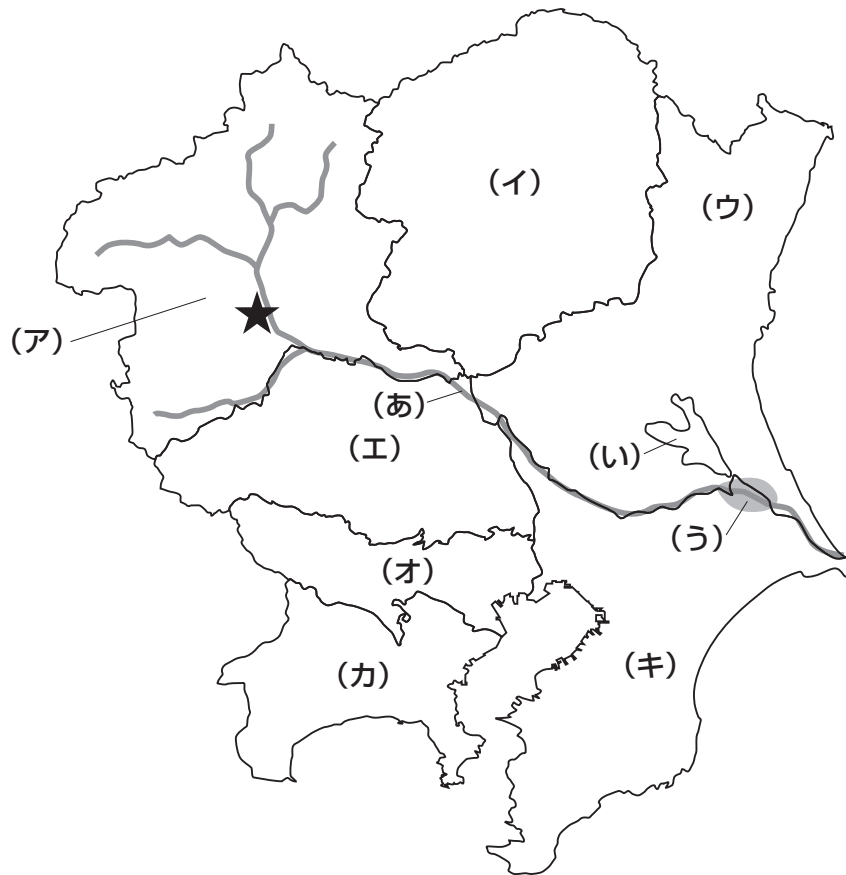


1 関東地方の1都6県について、次の【地図】を見て、あとの問いに答えなさい。

【地図】



問1 【地図】中の(あ)～(う)で示した自然環境について、次の(1)・(2)にそれぞれ答えなさい。

(1) 次の【資料】は、(あ)の河川、信濃川、石狩川、天塩川のいずれかの河川の長さや流域面積を示したものです。(あ)の河川について示したものを、【資料】中のA～Dの中からひとつ選んでアルファベットで答えなさい。

【資料】

	河川の長さ	流域面積
A	367 km	11,900 km ²
B	322 km	16,840 km ²
C	268 km	14,330 km ²
D	256 km	5,590 km ²

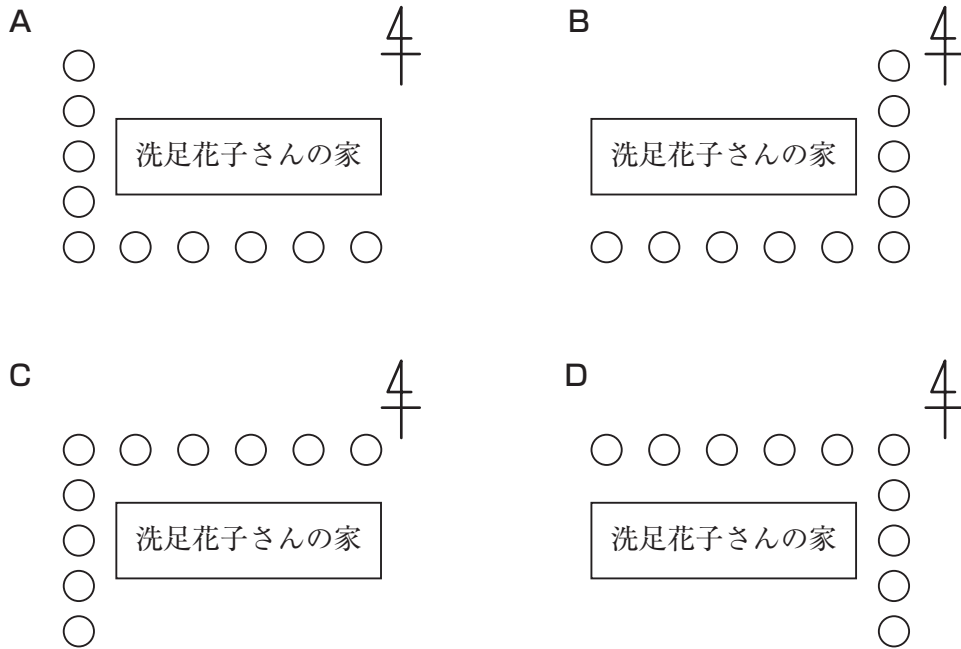
(国立天文台『理科年表 2020年版』より作成)

(2) 【地図】中の(い)・(う)について述べた文①・②の内容の正誤の組み合わせとして正しいものを、次のA～Dの中からひとつ選んでアルファベットで答えなさい。

- ① (い)の湖は霞ヶ浦であり、日本第二の面積と日本第一の最大水深をもっている。
- ② (う)は、水郷とよばれる^{ていしつちたい}低湿地帯であり、台風の^{ひがい}被害にあう前に^{しゅうかく}収穫する早場米の産地になっている。

- A ①-正 ②-正 B ①-正 ②-誤
 C ①-誤 ②-正 D ①-誤 ②-誤

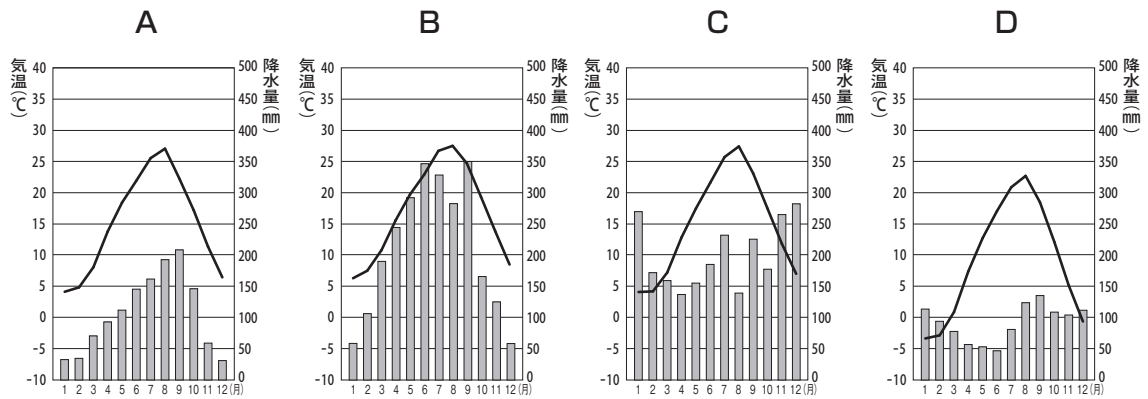
問2 【地図】中の(ア)で示した県の★に住む洗足花子さんの家では、冬に強く吹くからっ風を防ぐため家のまわりに木を植えました。この木はどのように植えられたと考えられますか。次のA～Dの中からひとつ選んでアルファベットで答えなさい。なお、○は木を示しています。



問3 【地図】中の(イ)で示した県の県庁所在地を漢字で答えなさい。

問4 【地図】中の(ウ)で示した県の南東部には^{さきゅう}砂丘地帯があり、そこにつくられた港を中心に工業地域が広がっています。この工業地域を漢字で答えなさい。

問5 【地図】 中の (工) で示した県に位置する熊谷市の月別平均気温と降水量を示したものを、次のA～Dの中からひとつ選んでアルファベットで答えなさい。



(国立天文台『理科年表 2020年版』より作成)

問6 【地図】 中の (オ)・(カ) で示した都県について、次の(1)～(3)にそれぞれ答えなさい。

- (1) 次の文は、【地図】 中の (オ) の環境局のホームページに掲載されているものです。文中の空欄 にあてはまる語句をカタカナ8字で答えなさい。

過去100年間の間に、約3℃気温が上昇しました。中小規模の都市の平均気温上昇が約1℃であるのに比べて、大きな上昇です。これは、地球温暖化の影響もありますが、 現象による影響も大きく現われています。

- (2) 【地図】 中の (カ) に位置する鎌倉市をはじめ、日本各地でナショナルトラスト運動がおこなわれてきました。ナショナルトラスト運動について説明した文としてふさわしいものを、次のA～Dの中からひとつ選んでアルファベットで答えなさい。

- A 破壊されていく自然環境を、市民団体などが買い取って保存していく運動。
- B 環境への影響について事前に報告をおこなう運動。
- C 観光地の交通渋滞を緩和するため、自動車の乗り入れを制限していく運動。
- D 水鳥の生息地として国際的に重要な湿地を守っていく運動。

- (3) 次の【資料】は、この2都県と、大阪府、兵庫県の昼間人口と夜間人口（2015年）を示したものです。この【資料】から読み取れる（カ）の県の特徴と、その特徴が生じる理由を文章で説明しなさい。

【資料】

（単位：千人）

	昼間人口	夜間人口
（オ）	15,920	13,515
（カ）	8,323	9,126
大阪府	9,224	8,839
兵庫県	5,294	5,535

（矢野恒太記念会『データでみる県勢 2020年版』より作成）

- 問7 【地図】中の（キ）で示した県には、成田空港があります。次の【資料】は、成田空港、大阪港、千葉港、名古屋港のいずれかの、輸出入品と輸出入額に占める割合（2019年）を示したものです。成田空港を示したものを、【資料】中のA～Dの中からひとつ選んでアルファベットで答えなさい。

【資料】

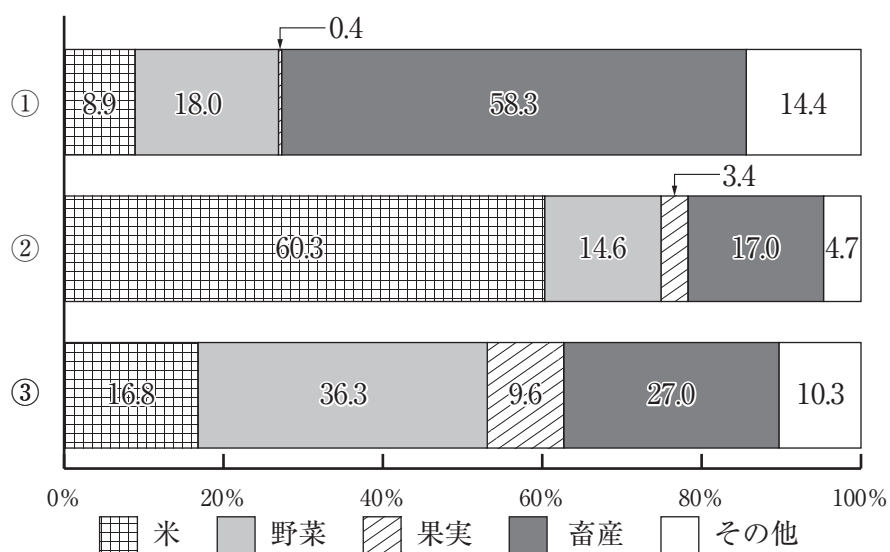
A				B			
輸出		輸入		輸出		輸入	
自動車	26.3%	液化ガス	8.4%	半導体等製造装置	8.1%	通信機	13.7%
自動車部品	16.7%	石油	7.8%	科学光学機器	6.2%	医薬品	12.3%
内燃機関	4.3%	衣類	7.1%	金（非貨幣用）	5.7%	コンピュータ	8.8%
金属加工機械	3.9%	絶縁電線・ケーブル	5.1%	電気回路用品	3.9%	集積回路	8.4%
電気計測機器	3.4%	アルミニウム	4.5%	集積回路	3.6%	科学光学機器	6.4%

C				D			
輸出		輸入		輸出		輸入	
石油製品	28.0%	石油	53.4%	集積回路	9.3%	衣類	15.0%
有機化合物	17.4%	液化ガス	17.4%	コンデンサー	8.2%	肉類	6.9%
鉄鋼	15.7%	自動車	9.1%	プラスチック	5.1%	家庭用電気機器	3.3%
自動車	10.2%	鉄鋼	3.7%	個別半導体	3.8%	金属製品	3.2%
プラスチック	6.9%	有機化合物	2.8%	電気回路用品	3.3%	鉄鋼	2.8%

（矢野恒太記念会『日本国勢図会 2020/21年版』より作成）

問8 次の【資料】は、北海道、関東地方、北陸地方のいずれかの農業産出額構成割合（2018年）を示したものです。①～③と地方名の組み合わせとして正しいものを、下のA～Fの中からひとつ選んでアルファベットで答えなさい。

【資料】



(農林水産省「農林水産統計 2020年版」より作成)

- | | | | |
|---|----------|----------|----------|
| A | ① - 北海道 | ② - 関東地方 | ③ - 北陸地方 |
| B | ① - 北海道 | ② - 北陸地方 | ③ - 関東地方 |
| C | ① - 関東地方 | ② - 北海道 | ③ - 北陸地方 |
| D | ① - 関東地方 | ② - 北陸地方 | ③ - 北海道 |
| E | ① - 北陸地方 | ② - 北海道 | ③ - 関東地方 |
| F | ① - 北陸地方 | ② - 関東地方 | ③ - 北海道 |

2 次の【文章Ⅰ】～【文章Ⅲ】を読んで、あとの問いに答えなさい。

【文章Ⅰ】

「大化」は、(ア)中大兄皇子と中臣鎌足らによって蘇我氏の本宗家が滅ぼされたのちに用いられた年号です。記録上、日本史上初の年号と考えられています。

奈良時代に成立した『日本書紀』には、646年に出された改新の詔の内容が記されています。改新の詔は、新政府による政治方針であり、【(イ)】制や班田収授法などが記されていたとされています。しかし、『日本書紀』にある詔の文章には、後世のものと思われる表現や政策がみられます。このことから、『日本書紀』中の詔の文章は、原文と同一のものであるとはいえないという理解がなされるようになりました。

【文章Ⅱ】

「【(ウ)】」は、一旦は滅ぼされた漢王朝が(エ)後漢の初代皇帝光武帝によって復興されたのちに使用された年号です。日本でも、この年号が使用された時期があります。光武帝の事績を考えると、この年号を採用した後醍醐天皇の思いが想像できます。後醍醐天皇は、鎌倉幕府を滅ぼすとともに(オ)摂関政治・院政・幕府政治を否定して、自身への権限の集中をはかりました。

後醍醐天皇による新政権が崩壊したのち、【(カ)】が新たに擁立した天皇による北朝と、吉野に逃れた後醍醐天皇による南朝では、別々の年号が用いられました。ふたつの朝廷による対立が続いたことから、南北朝のいずれが正統であるかという論争はその後も長い間おこなわれました。

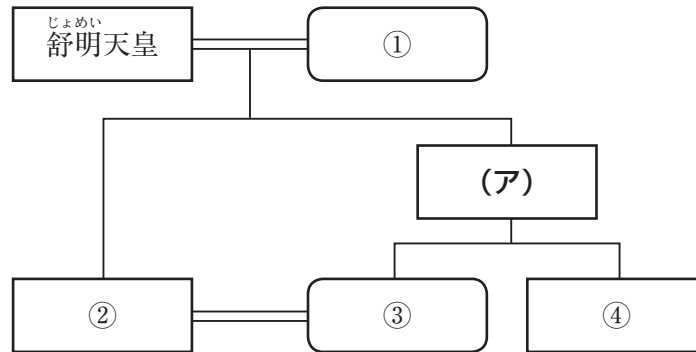
20世紀になり、野党であった立憲国民党の(キ)犬養毅は、当時の内閣打倒を意図してこの論争を利用したと考えられています。このように、両朝廷の正統性に関する議論は近現代にまで影響を与えています。

【文章Ⅲ】

17世紀後半、経済の発展を背景にして、これまでの文化の担い手の階層に加えて、一般の町人などの階層も担い手とする文化が生まれました。この時期の文化を当時の年号をとって【(ク)】文化とよびます。【(ク)】年間の前後の時期は、上方の町人文芸において優れた作品が生まれた時期です。『【(ケ)】』の作者で知られ、天和年間から【(ク)】年間にかけて活躍した井原西鶴は、後世の文学にも影響を与えています。昭和20年に刊行された太宰治の短編集『新釈諸国噺』は、西鶴の作品をもとにして書かれたと考えられています。

問1 次の【資料】は、皇室の系図から下線部（ア）に関連する人物を抜き出したものです。【資料】に関連して述べた文として正しいものを、下のA～Dの中からひとつ選んでアルファベットで答えなさい。

【資料】



※ \equiv は婚姻関係を、— は親子・兄弟姉妹関係を示す。
 ※ \square は女性を、 \square は男性を示す。

- A ①は、小野妹子を唐へ派遣した。
- B ②は、初めての全国的な戸籍である庚午年籍をつくった。
- C ③は、藤原京に都を移した。
- D ④は、(ア)の死後、②との後継ぎ争いに勝利して即位した。

問2 空欄 (イ) にあてはまる語句を、次のA～Dの中からひとつ選んでアルファベットで答えなさい。

- A 律令
- B 公地公民
- C 荘園
- D 封建

問3 空欄 (ウ) にあてはまる年号を漢字で答えなさい。

問4 下線部 (エ) の歴史を著した『後漢書』に記されている当時の日本について述べた文として最もふさわしいものを、次のA～Dの中からひとつ選んでアルファベットで答えなさい。

- A 倭の奴国の王が、中国王朝に使者を遣わした。
- B 倭の五王が、中国王朝に貢物を送った。
- C 倭の諸国は、互いに争っておさまらなかったため、共同して女王をたてた。
- D 女王は、魏の皇帝に使者を送って「親魏倭王」の称号を授けられた。

問5 下線部(オ)について述べた文①～③の内容の正誤の組み合わせとして正しいものを、下のA～Hの中からひとつ選んでアルファベットで答えなさい。

- ① 藤原氏を外戚とする後三条天皇が即位し、摂関政治が最盛期を迎えた。
- ② 平清盛が太政大臣に任命されて力をつけると、白河上皇はこれに対抗して政治の実権を握るために院政を開始した。
- ③ 鎌倉幕府の将軍を補佐する役割として、管領が政治の実権を握った。

- | | | | | | | | |
|---|-----|-----|-----|---|-----|-----|-----|
| A | ①-正 | ②-正 | ③-正 | B | ①-正 | ②-正 | ③-誤 |
| C | ①-正 | ②-誤 | ③-正 | D | ①-正 | ②-誤 | ③-誤 |
| E | ①-誤 | ②-正 | ③-正 | F | ①-誤 | ②-正 | ③-誤 |
| G | ①-誤 | ②-誤 | ③-正 | H | ①-誤 | ②-誤 | ③-誤 |

問6 空欄(力)にあてはまる人物を姓名ともに漢字で答えなさい。

問7 下線部(キ)について述べた文としてふさわしいものを、次のA～Dの中からひとつ選んでアルファベットで答えなさい。

- A 本格的な政党内閣を組織した、最初の首相となった。
- B 首相兼日本全権として、サンフランシスコ平和条約に調印した。
- C 太平洋戦争開戦時に首相を務めた。
- D 首相を務めたが、海軍青年将校らの一団によって殺害された。

問8 空欄(ク)にあてはまる年号を漢字で答えなさい。

問9 空欄(ケ)にあてはまる作品を、次のA～Dの中からひとつ選んでアルファベットで答えなさい。

- | | |
|-----------|-----------|
| A 東海道中膝栗毛 | B 南総里見八犬伝 |
| C 東海道五十三次 | D 日本永代蔵 |

問10 【文章Ⅰ】～【文章Ⅲ】中の大化、空欄^{くうらん}(ウ)、空欄^{くうらん}(ク)を含めた
 6つの年号を、日本で使われた時期の古い順に並べたとき、空欄^{くうらん}X・
 Y・Zにあてはまる年号の組み合わせとしてふさわしいものを、
 次のA～Hの中からひとつ選んでアルファベットで答えなさい。

大化 → X → (ウ) → Y → (ク) → Z

- | | | | |
|---|--------|--------|--------|
| A | X - 正長 | Y - 天明 | Z - 安政 |
| B | X - 弘安 | Y - 応仁 | Z - 慶安 |
| C | X - 和銅 | Y - 平治 | Z - 享保 |
| D | X - 承平 | Y - 承久 | Z - 慶長 |
| E | X - 天正 | Y - 慶安 | Z - 天保 |
| F | X - 大宝 | Y - 正長 | Z - 安政 |
| G | X - 承平 | Y - 応仁 | Z - 慶長 |
| H | X - 文永 | Y - 享保 | Z - 天保 |

3 次の文章は、佐々木毅『民主主義という不思議な仕組み』（ちくまプリマー新書）より抜粋したものです。これを読んで、あとの問いに答えなさい。なお、一部ふりがなをつけたり省略したりした部分があります。

そうすると、(ア) 選挙は (イ) 政策を 選択するというよりは、誰を、あるいはそれを通してどの政党を自分たちの代表と「みなす」かをめぐって、政策の担い手を 選択する場となります。しかし、先にも述べたように、選挙は国民の意志表示の機会ですが、それも (ウ) 候補者あつての話です。候補者の提供を含め、政党などが 選択のためにどのような環境作りをするのが非常に大事なのです。

日本の選挙のように、候補者の宣伝カーが候補者の名前を「連呼」するのが環境作りと考えるのか、それとも一部であれ、政策をめぐる実質的な政策論議がなされるかで、この 選択環境は大きく違ってくる。政治的意見の表明が (エ) 自由にできないようなところでは、選択が極めて歪んだものになるのは当然です。また、買収 供給★などが日常茶飯事に繰り返されているようでは、選択は「票の売買」に変貌してしまいます。他方で、不正行為をなくそうとして規制を強めれば、選挙運動が何も出来なくなり、「連呼」の連発になりかねない。ですから、選挙のルールを定めた法律（日本でいえば、公職選挙法）の内容がどうなっているのか、さらには (オ) マスコミがどのような役割を果たすのか、こうしたことが相まって、選択のための環境整備が初めて進むこととなります。この環境改善の努力を怠ることは、選択の質の劣化につながることはいうまでもありません。

選択に当たっては、政策が考慮に入らないわけではありません。たとえて言えば、政策は品物の中身であり、それ抜きにイメージ（包装その他）だけでは 選択として十分ではないということです。政権公約（マニフェスト）などの重要性が叫ばれるのはこのためであって、日本でも政党だけではなく、(カ) 地方の首長選の無所属候補もこれを配ることができるようになりました。

ところが一般には、マニフェストを政治家個人の「願望の羅列」（英語で言えば、ウィッシュ・リスト）と考える向きがなお見られます。しかし、マニフェストは「願望の羅列」とはまったく違います。マニフェストはあくまで、具体的な政策の実行を前提にして提案したものであって、(キ) 財源（政策にはお金がかかります）や期間（一年後と百年後では話が全く違います）などについての数値などが含まれていなければなりません。言い換えれば、「スーパーマンの計画」ではダメだということです。

（中略）

選択のための環境の良し悪しは、長い年月の間に非常に大きな違いを生み出します。政治は時間の中での「積み重ね」の作業であり、それが政治への信頼感を生み、さまざまな危機を乗り越えることもできるようになります。「積み重ね」の仕組みがあるかないかで、成果はまったく違ったものになるのです。ですから、そのための環境を不断に改善していくことが大切であり、これもまた政治活動の一部なのです。

★ 買収供給…選挙運動や投票の報酬として、有権者に金銭や飲食などを提供すること。

問1 下線部(ア)に関連して、日本の選挙制度について述べた文として誤っているものを、次のA～Dの中からひとつ選んでアルファベットで答えなさい。

- A 1925年に成立したいわゆる普通選挙法によって、満25歳以上のすべての男性に選挙権が認められた。
- B 2015年に改正された公職選挙法によって、満18歳以上のすべての男女に選挙権が認められた。
- C 国政選挙の投票の際には、有権者は自分の氏名を投票用紙に記入する必要がある。
- D 衆議院議員選挙では、小選挙区と比例代表の両方に立候補することができる。

問2 下線部(イ)に関連して、2020年に日本国内で実施された政策について述べた文として正しいものを、次のA～Dの中からすべて選んでアルファベットで答えなさい。

- A プラスチックごみを削減するためにレジ袋が有料化された。
- B すべての国民に、マイナンバーカードの作成が義務付けられた。
- C 消費税において、軽減税率が導入された。
- D Go To トラベルキャンペーンを実施し、国内旅行の費用の一部を国が負担した。

問3 下線部(ウ)に関連して、国政選挙および地方議会の選挙において男女の候補者数ができる限り均等となることを目指す「政治分野における男女共同参画の推進に関する法律」が2018年に制定されました。この法律が制定された背景として考えられることを、「意見」という語句を用いて文章で説明しなさい。

問4 下線部(エ)に関連して、日本国憲法で保障されている自由権について、次の(1)・(2)にそれぞれ答えなさい。

(1) 日本国憲法第19条は、精神の自由を保障する最初の条文です。次の条文中の空欄 X・Y にあてはまる語句をそれぞれ漢字で答えなさい。

X 及び Y の自由は、これを侵してはならない。

(2) 日本国憲法において、自由権として保障されている権利を、次のA～Dの中からひとつ選んでアルファベットで答えなさい。

- A 裁判を受ける権利
- B 奴隷的拘束や苦役を受けない権利
- C 教育を受ける権利
- D 個人として尊重される権利

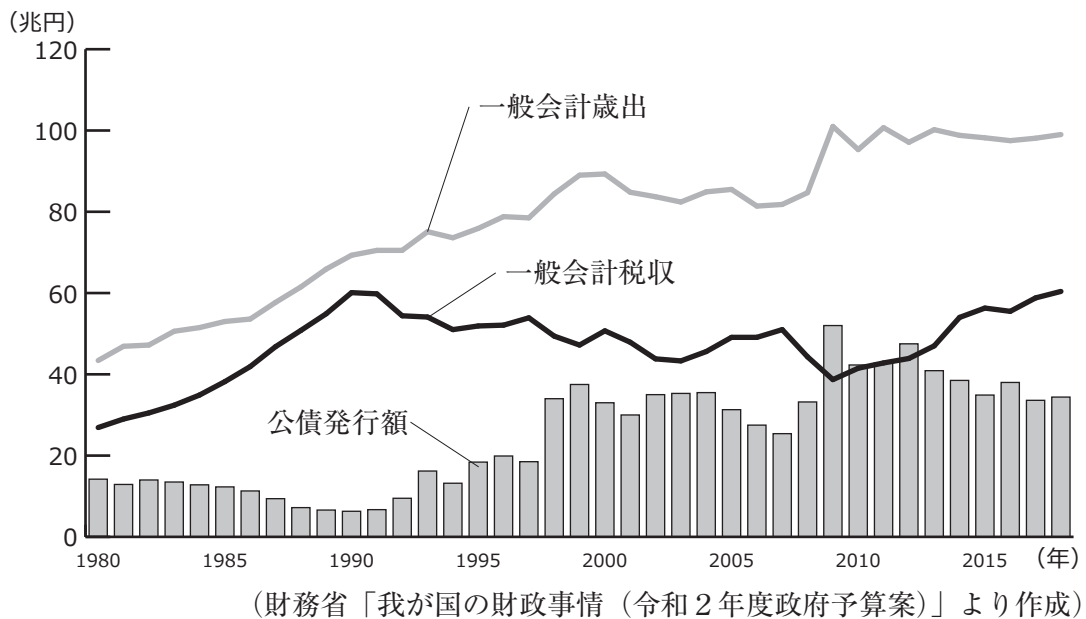
問5 下線部(オ)などが発信する情報に対して、その信頼性や真偽を見極めながら活用する能力を何といいますか。カタカナで答えなさい。

問6 下線部(カ)に関連して述べた文として誤っているものを、次のA～Dの中からひとつ選んでアルファベットで答えなさい。

- A 地方公共団体の首長は、住民の直接選挙で選ばれる。
- B 都道府県知事と市町村長の任期はどちらも4年である。
- C 首長の解職を請求するためには、その地方公共団体の有権者の3分の1以上の署名が必要である。
- D 教育委員会や選挙管理委員会は、各地方公共団体の首長の指揮・監督のもとに仕事をおこなう。

問7 下線部(キ)に関連して、次の【資料】は、1980年から2018年までの一般会計歳出額、一般会計税収額、公債発行額の推移を示したものです。次の【資料】から読み取れることについて述べた文①～③の内容の正誤の組み合わせとして正しいものを、下のA～Hの中からひとつ選んでアルファベットで答えなさい。

【資料】



- ① 一般会計税収額は、景気の動向に左右されにくいため、ほとんど変動はみられない。
- ② 21世紀になってからの一般会計歳出額を平均すると90兆円程度になる。
- ③ 公債発行額が一般会計税収額を上回った年度が複数ある。

- | | | | | | | | |
|---|-----|-----|-----|---|-----|-----|-----|
| A | ①-正 | ②-正 | ③-正 | B | ①-正 | ②-正 | ③-誤 |
| C | ①-正 | ②-誤 | ③-正 | D | ①-正 | ②-誤 | ③-誤 |
| E | ①-誤 | ②-正 | ③-正 | F | ①-誤 | ②-正 | ③-誤 |
| G | ①-誤 | ②-誤 | ③-正 | H | ①-誤 | ②-誤 | ③-誤 |

問8 この文章から読み取れることを述べた文として最もふさわしいものを、次のA～Dの中からひとつ選んでアルファベットで答えなさい。

- A 現状の選挙は、政策を^{せんたく}選択する場となっており、自分たちの代表と「みならず」人物や政党を選ぶ場とはいえない。
- B 不正行為^{こうい}をなくすために、公職選挙法によって選挙運動の規制をより強化するべきである。
- C マニフェストは、財源を明記するなど具体的な政策の実行を前提に提案したものでなければならない。
- D 選挙が公正^{いじ}におこなわれるようにするために、現在の選挙制度をできる限りこのまま維持^{いじ}すべきである。

