

平成29年度 入学試験問題

社 会

第 1 回

||||| 【注 意】 |||||

試験時間は理科とあわせて60分間です。(11:10～12:10)

社会と理科両方の教科の問題を時間内に解いてください。

問題は1ページから9ページまでです。

解答はすべて解答用紙に記入してください。

解答用紙に受験番号、氏名を記入してください。

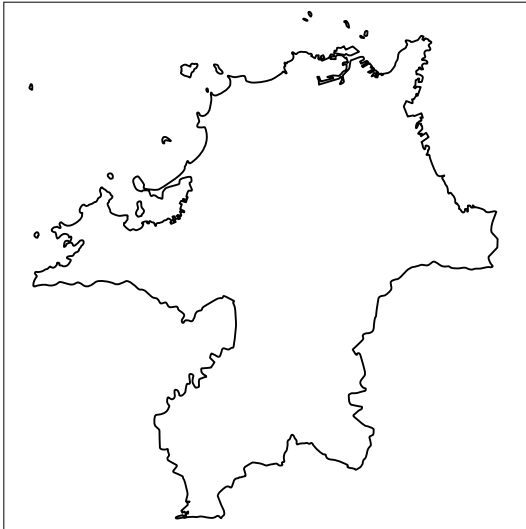
|||||



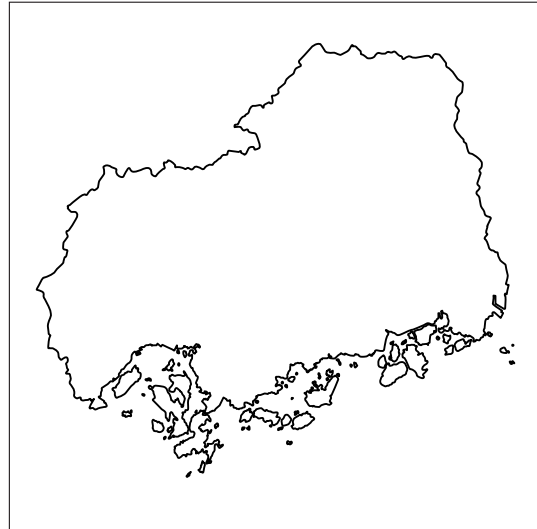
洗足学園中学校

1 次の【地図1】～【地図4】について、あとの問いに答えなさい。


【地図1】



【地図2】



【地図3】



【地図4】



問1 【地図1】～【地図4】は、「ある法則」にもとづいて番号順に並べられています。
【地図3】にあてはまる県としてふさわしいものを、次の①～④の中からひとつ選んで番号で答えなさい。

- ① 宮城県 ② 宮崎県 ③ 鳥取県 ④ 島根県

問2 【地図1】が示している県と隣接^{りんせつ}している県の組み合わせとしてふさわしいものを、次の①～④の中からひとつ選んで番号で答えなさい。

- ① 佐賀県・長崎県 ② 大分県・鹿児島県
③ 佐賀県・宮崎県 ④ 大分県・熊本県

問3 【地図1】が示している県について述べた文として最もふさわしいものを、次の

①～④の中からひとつ選んで番号で答えなさい。

- ① この県の県庁所在地は政令指定都市であり、その市域の多くは筑紫平野に含まれている。
- ② 神奈川県や静岡県、大阪府とともに、政令指定都市をふたつ以上有する県である。
- ③ 博多湾を通過する新関門トンネルによって、山口県と結ばれている。
- ④ 県の南西部は有明海に面しており、その海岸沿いに寒流である対馬海流が流れている。

問4 【地図2】が示している県を漢字で答えなさい。

問5 【地図2】が示している県の県庁所在地の年間降水量は、この県の地形的な条件が主な理由となって比較的少なくなっています。降水量が少なくなる理由を文章で説明しなさい。

問6 【地図2】が示している県は、中国地方有数の工業県であり、南部の沿岸部は瀬戸内工業地域の一部です。県の の福山市や、県庁所在都市の南東に位置する では鉄鋼業が盛んです。 や三原市では古くから造船業がおこなわれてきました。県の南西部の大竹市から隣県の岩国市にかけては石油化学コンビナートが形成されています。空欄 ・ にあてはまる語句の組み合わせとしてふさわしいものを、次の①～⑥の中からひとつ選んで番号で答えなさい。

- | | | | | |
|---|--------------------------------|------|--------------------------------|------|
| ① | <input type="text" value="X"/> | — 西部 | <input type="text" value="Y"/> | — 堺市 |
| ② | <input type="text" value="X"/> | — 北部 | <input type="text" value="Y"/> | — 呉市 |
| ③ | <input type="text" value="X"/> | — 東部 | <input type="text" value="Y"/> | — 津市 |
| ④ | <input type="text" value="X"/> | — 西部 | <input type="text" value="Y"/> | — 津市 |
| ⑤ | <input type="text" value="X"/> | — 北部 | <input type="text" value="Y"/> | — 堺市 |
| ⑥ | <input type="text" value="X"/> | — 東部 | <input type="text" value="Y"/> | — 呉市 |

問7 【地図4】は北海道を示しています。北海道は、西は日本海、北東は 海、南東は太平洋にかこまれています。空欄 にあてはまる語句を答えなさい。

問8 【地図4】が示している北海道は、広大な土地と農業用機械を利用し、多くの農作物を生産しています。とくに、砂糖の原料となる や、じゃがいもや などの生産量が全国1位（2014年）になっています。空欄 ・ にあてはまる語句の組み合わせとしてふさわしいものを、次の①～⑥の中からひとつ選んで番号で答えなさい。

- | | | | | |
|---|--------------------------------|-------|--------------------------------|-------|
| ① | <input type="text" value="X"/> | —てんさい | <input type="text" value="Y"/> | —べにばな |
| ② | <input type="text" value="X"/> | —あずき | <input type="text" value="Y"/> | —たまねぎ |
| ③ | <input type="text" value="X"/> | —てんさい | <input type="text" value="Y"/> | —おうとう |
| ④ | <input type="text" value="X"/> | —あずき | <input type="text" value="Y"/> | —べにばな |
| ⑤ | <input type="text" value="X"/> | —てんさい | <input type="text" value="Y"/> | —たまねぎ |
| ⑥ | <input type="text" value="X"/> | —あずき | <input type="text" value="Y"/> | —おうとう |

問9 【地図4】が示している北海道について述べた文として正しいものを、次の①～④の中からひとつ選んで番号で答えなさい。

- ① 北海道の面積は、全国の都道府県の中では最大で、本州の約6分の1であり、四国の約2倍である。
- ② 北海道の人口は、全国の都道府県の中では5番目に多いが、人口密度は、全国の都道府県の中で最も低くなっている。
- ③ 北海道の代表的な家畜である乳牛・肉牛の飼育頭数は、2015年現在、いずれも全国の都道府県の中で北海道が最も多くなっている。
- ④ 北海道の工業は、ビール・食品加工などの軽工業が中心であり、現在、製鉄所や自動車工場は北海道には存在しない。

2 次の文章を読んで、あとの問いに答えなさい。

川崎市の麻生区あさおに王禅寺おうぜんじという寺院があり、このあたり一帯の地名にもなっています。この地は、律令制下の地方区分では、武蔵国都筑つづき (ア) 二本松とよばれていました。この寺の言い伝えによると、(イ)孝謙天皇こうけんの時代に王禅寺おうぜんじの元となる堂が建てられ、その後、(ウ)高野山金剛峯寺むくろしやうにんの無空上人むくうじやうにんが天皇より「王禅寺」の寺号たまわを賜ったそうです。

1333年には(エ)新田義貞軍しんこうの進攻ともなに伴い焼失しましたが、のちに再興されました。戦国時代には有名な僧そうも在籍ざいせきし、この地を統治した(オ)北条氏きたじょうからは寺の収入を安堵あんこされています。また、江戸時代には、(カ)徳川家光とくがわから、寺の収入を認められたといわれています。

この寺の再建につとめた等海上人とうかいしやうにんは、材木を探すために山に入った際、柿が実っているのを発見し、持ち帰って移植いんげいしたといわれています。この原木といわれている木が今でも境内に残っています。この柿は、「禅寺丸柿ぜんじまる」として知られるようになり、(キ)やがて村に収入をもたらしたようです。明治22年にこのあたりの(ク)町村まちづらが合併がっぺいされて新しい村がうまれた際には、柿生村と名づけられました。この村は昭和14年に川崎市に編入へんにゅうされましたが、今でも小田急線の駅名に「柿生かきお」の名が残っています。

禅寺丸柿ぜんじまるは、明治時代から昭和初期にかけてがその生産の最盛期さいせいきでした。しかし、より甘みの強い他の品種におされ、(ケ)昭和40年代後半頃には市場から姿を消していったようです。しかし、その後、地元では保存会ができて、今でも栽培が続けられています。

問1 空欄 (ア) にあてはまる語句を漢字1字で答えなさい。

問2 下線部(イ)の人物は、聖武天皇むすめの娘であり、のちに称徳天皇しょうとくとして再び即位そくいしました。その時期に、大きな権力あつを与えられて政治を左右さうした僧を、次の①～④の中からひとり選んで番号で答えなさい。

- ① 道鏡 ② 運慶 ③ 鑑真 ④ 道元

問3 下線部(ウ)に関連して、A・Bそれぞれの問いに答えなさい。

A この寺を開いた僧を漢字2字で答えなさい。

B この寺を総本山とする仏教の宗派について述べた文としてふさわしいものを、次の①～④の中からひとつ選んで番号で答えなさい。

- ① 病気や災いを取り除く祈りやまじないをおこない、天皇や貴族の信仰を集めた。
- ② 阿弥陀仏を信じさえすれば極楽に生まれかわれるとして、悪人こそ救われることを説いた。
- ③ 座禅を組むことによって悟りを得ることを重んじる禅宗の一派であり、主に武士の支持を集めた。
- ④ 法華経がただひとつ正しい経典であると主張し、「南無妙法蓮華経」の題目をとさえれば救われるとした。

問4 下線部(工)について述べた文として正しいものを、次の①～④の中からひとつ選んで番号で答えなさい。

- ① 関東で反乱を起こした平将門の軍と戦うために、朝廷の命令を受けて関東に攻め寄せた。
- ② 後鳥羽上皇が鎌倉幕府を倒すために起こした戦乱の際に、幕府に従って関東から西国に向かっていた。
- ③ 鎌倉幕府を倒して天皇を中心とする政治をおこなおうとした後醍醐天皇の呼びかけに応じ、鎌倉に攻め込んだ。
- ④ 応仁の乱後、いわゆる下剋上の世の中になったため、関東の守護大名と戦って領土を広げようとしていた。

問5 下線部(オ)に関連して、A・Bそれぞれの問いに答えなさい。

A 北条氏が本拠とした城下町を漢字で答えなさい。

B 北条氏について述べた文として正しいものを、次の①～④の中からひとつ選んで番号で答えなさい。

- ① 桶狭間の戦いで織田信長に敗れた。
- ② 豊臣秀吉に攻められて降伏した。
- ③ 関ヶ原の戦いで西軍に味方して敗れた。
- ④ 武家諸法度に違反してとりつぶされた。

問6 下線部(力)について述べた文としてふさわしいものを、次の①～④の中からひとつ選んで番号で答えなさい。

- ① 公事方御定書を定めた。
- ② 質を落とした小判を大量に発行して、幕府の収入を増やそうとした。
- ③ 参勤交代を制度化した。
- ④ 江戸幕府における、最初の武家諸法度を制定した。

問7 下線部(キ)に関連して、江戸時代の農民のなかには、米をあまり生産しないにもかかわらず、定められた年貢米を納める者もいました。彼らはどのようにして年貢米を納めていましたか。次の語句を用いて文章で説明しなさい。

[商品作物 こうにゆう
 購入]

問8 下線部(ク)の時代背景について述べた文として正しいものを、次の①～④の中からひとつ選んで番号で答えなさい。

- ① 廃藩置県がおこなわれた直後であり、政府は、江戸時代以来の町村にかえて、新しい地域区分を導入しようとしていた。
- ② 帝国議会が開かれる直前であり、政府は、自由民権運動の影響を受けて政党が力を伸ばしていた地方政治のひきしめをはかっていた。
- ③ 日露戦争勝利の直後であり、戦争の負担に各地が苦しむなかで、政府は、町村の合併によって地方の財政を強化しようとした。
- ④ 日中戦争のさなかであり、政府は、町村の合併を進めることで、戦争のための統制をスムーズにしようとしていた。

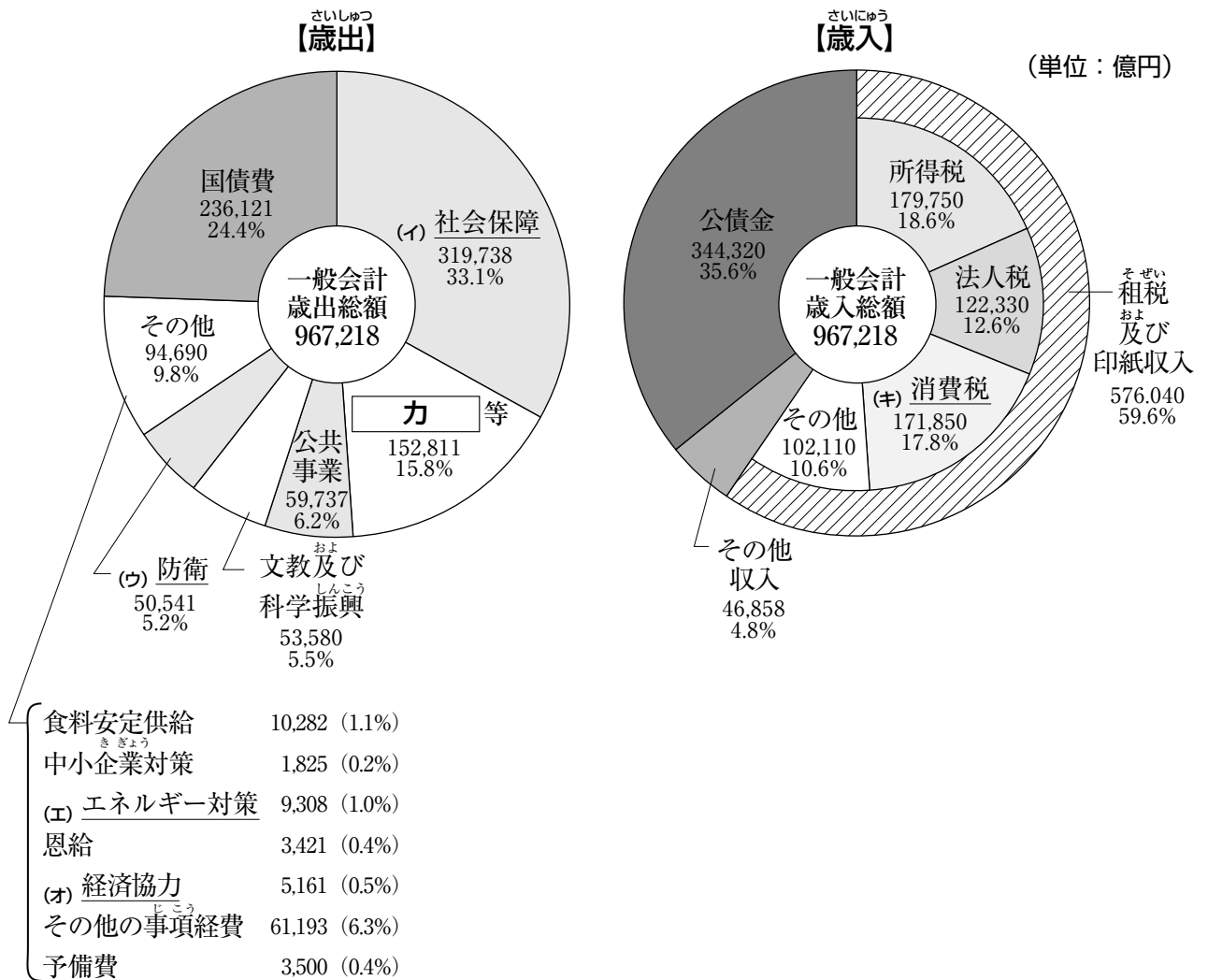
問9 下線部(ケ)の日本における農業について述べた文として正しいものを、次の①～④の中からひとつ選んで番号で答えなさい。

- ① 農業のみを生業とする農家が減少し、農業以外の収入もある農家が増加した。
- ② アメリカからの要求によって、米の輸入が自由化された。
- ③ 農地改革がおこなわれ、自作農が増加した。
- ④ 高度経済成長によって農村部への人口移動が生じたため、農業生産は増加した。

3 次の【資料】に関連して、あとの問いに答えなさい。

【資料】

平成28年度一般会計(ア)予算の構成



(<http://www.zaisei.mof.go.jp/pdf/平成28年度一般会計予算.pdf>)

問1 下線部 (ア) について、A・Bそれぞれの問いに答えなさい。

A 日本における平成28年度一般会計予算について述べた文として誤っているものを、次の①～④の中からひとつ選んで番号で答えなさい。

- ① 平成28年度一般会計予算の歳入の合計はおよそ97兆円である。
- ② 平成28年度一般会計予算は、平成28年4月1日から平成29年3月31日までの歳入と歳出である。
- ③ 平成28年度一般会計予算の歳入において、租税及び印紙収入は公債金を上回っている。
- ④ 平成28年度一般会計予算の歳入の上位1位の所得税と、2位の消費税はともに直接税である。

B 日本では、内閣が予算を組み、国会が予算の議決をします。国会について述べた文として正しいものを、次の①～④の中からひとつ選んで番号で答えなさい。

- ① 衆議院の解散中に参議院だけが召集される緊急集会が開かれることがある。
- ② 憲法改正案は先に衆議院に提出しなければならない。
- ③ 国会は、天皇の国事に関する行為に対して助言と承認をおこなう。
- ④ 本会議では、総議員の3分の2以上の出席がなければ審議や議決をすることができない。

問2 下線部 (イ) に関連して、A・Bそれぞれの問いに答えなさい。

A 日本国憲法第25条の条文中の空欄 にあてはまる語句を答えなさい。

すべて国民は、 な最低限度の生活を営む権利を有する。

B 日本の社会保障制度について述べた文として誤っているものを、次の①～④の中からひとつ選んで番号で答えなさい。

- ① 社会福祉とは、老人・子ども・障がい者などのために施設やサービスを提供する制度である。
- ② 医療保険にはすべての国民が加入することとなっている。
- ③ 少子・高齢社会となった日本では、年金制度を維持するために改革がおこなわれている。
- ④ 平成28年度一般会計予算において、社会保障関係費のうち、最も多いのが公的扶助にかかわる費用である。

問3 下線部(ウ)に関連して、平成28年3月29日に平和安全法制関連2法が施行されました。これによって、国際法上、日本と友好関係にある国が武力攻撃を受け
た場合、日本が直接攻撃を受けていない場合でも、実力をもって阻止する権利が
行使できるようになりました。この権利を漢字で答えなさい。

問4 下線部(エ)に関連して、日本におけるエネルギーに関する政策について述べ
た文として誤っているものを、次の①～④の中からひとつ選んで番号で答えな
さい。

- ① 料金やサービスの多様化などを期待して、2016年4月から電力の小売りが
全面自由化された。
- ② 風力・太陽光などの再生可能エネルギーの活用が図られている。
- ③ 温室効果ガスの排出量削減を期待して、地球温暖化対策のための税が導
入されている。
- ④ 福島第一原発の事故をきっかけに、国内の原子力発電所はすべて廃炉と
なった。

問5 下線部(オ)に関連して、日本の国際協力について述べた文として誤っている
ものを、次の①～④の中からひとつ選んで番号で答えなさい。

- ① 日本の負担する国連分担金は、2014年現在、アメリカに次いで多い。
- ② 日本の政府開発援助(ODA)の額は、2014年現在、世界第1位である。
- ③ 日本の政府開発援助(ODA)における二国間援助は、2014年現在、アジア
の国々を主な援助先に行っている。
- ④ 日本の政府開発援助(ODA)は、国民総所得(GNI)との比率で考えると、
2014年現在、主な援助国の中で低い。

問6 空欄(力)は、地方公共団体間の収入の格差をなくすためのお金で
す。空欄(力)にあてはまる語句を漢字で答えなさい。

問7 下線部(キ)について、消費税率の引き上げに伴い、軽減税率制度の導入が議
論されています。この制度の背景にある、消費税の抱える問題点を文章で説明し
なさい。

