

平成26年度 入学試験問題

社 会

第 1 回

||||| 【注 意】 |||||

試験時間は理科とあわせて60分です。(11:10～12:10)

問題は1ページから10ページまでです。

解答はすべて解答用紙に記入してください。

解答用紙に受験番号、氏名を記入してください。

|||||



洗足学園中学校

1 次の文章を読んで、あとの問いに答えなさい。

2013年6月、富士山が世界文化遺産に登録されました。静岡県と(ア)山梨県にまたがっている富士山は、古くから信仰の対象であり、文学作品にも取り上げられてきました。また富士山を描いた浮世絵は、欧米の文化にも影響を与えました。それらのことを理由として、世界文化遺産に登録されたのです。(イ)国連教育科学文化機関(ユネスコ)の諮問機関である国際記念物遺跡会議(イコモス)という機関が、世界文化遺産への登録を勧告し、これにもとづいて、ユネスコ世界遺産委員会で審査されて世界文化遺産に登録されました。富士山を訪れる観光客の増加が期待される一方で、観光によって環境が破壊されることも心配されています。

富士山は何度も噴火を繰り返してきました。中でも1707年の噴火は規模が大きく、深刻な被害をひきおこしています。この噴煙は(ウ)現在の東京・横浜にあたる地域にまで達しており、江戸では昼間でも薄暗かったそうです。火山灰は、農業や漁業にも深刻な影響を与えたとされます。

しかし、噴火によって、大きな被害が発生した一方で、大きな恵みももたらされています。降り積もった火山灰によって、富士山周辺では黒ボク層という、比較的肥沃な火山灰土壌が形成されました。

黒ボク土は耕しやすいため、(エ)野菜や大豆、茶などを生産する畑地として利用されています。浅間山の山麓で栽培されるキャベツ、桜島で栽培される大根などが知られており、じゃがいもなどが栽培される十勝平野は、支笏カルデラ、樽前山から噴出された火山灰から形成されています。火山灰土壌の富士・沼津地域は、静岡県でも特に茶の栽培が盛んなところでは、

また、(オ)富士山の南側にあたる静岡県では、工業、漁業、農業などの産業が盛んです。北西の麓に広がる朝霧高原では、寒冷なために火山灰土壌が形成されず、牛が放牧され酪農がおこなわれています。富士山の東側の麓、御殿場市や小山町の標高約500m以下の地域では、火山灰土壌と(カ)豊富な水を利用して、良質の米が作られています。

問1 下線部(ア)について述べた文として正しいものを、次の①～④の中からひとつ選んで番号で答えなさい。

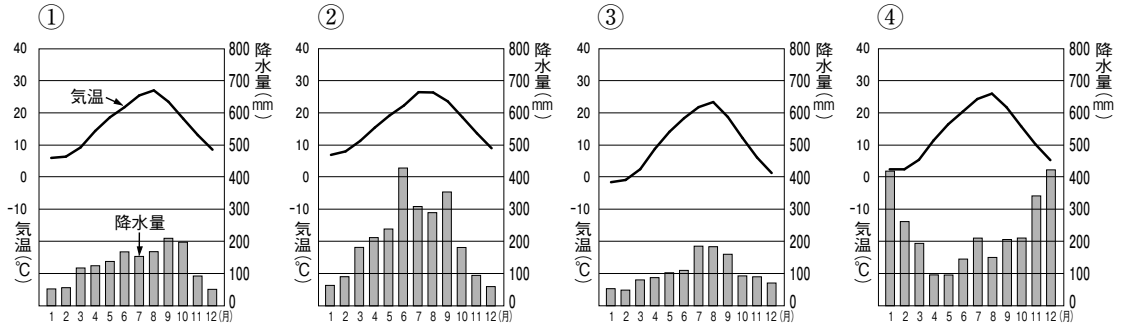
- ① 果樹栽培が盛んにおこなわれており、もも・ぶどうの収穫量は全国第1位である。
- ② 甲府盆地では、三角州が発達しており、それを農地として利用している。
- ③ 冬の降雪量は多くないが、気温が低く、置賜つむぎなどの伝統工業が盛んである。
- ④ 県中央部の諏訪湖付近では、電子部品が盛んに生産されている。

問2 下線部(イ)に対して、日本政府が、2013年に世界文化遺産として登録するよう推薦書を提出したものを、次の①～④の中からひとつ選んで番号で答えなさい。

- ① 佐渡金山遺跡
- ② 原爆ドーム
- ③ 富岡製糸場
- ④ 八幡製鉄所

問3 下線部(ウ)に関連して、A・Bそれぞれの問いに答えなさい。

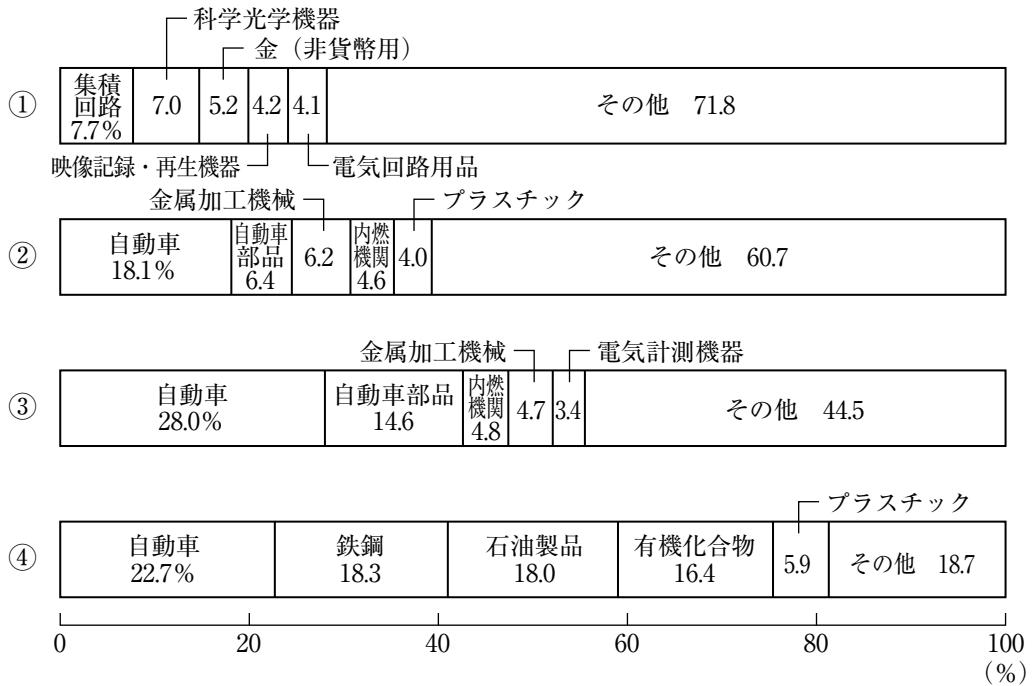
A 東京における月別の平均気温と降水量を示しているグラフを、次の①～④の中からひとつ選んで番号で答えなさい。



(『日本国勢図会 2013/14年版』より作成)

B 次の【資料】は千葉、横浜、成田国際空港、名古屋のいずれかの貿易港の輸出品目の割合を示しています。横浜を示しているものを、次の①～④の中からひとつ選んで番号で答えなさい。

【資料】



(『日本国勢図会 2013/14年版』より作成)

問4 下線部(工)に関連して述べた文として正しいものを、次の①～④の中からひとつ選んで番号で答えなさい。

- ① はくさいやピーマンの収穫量が全国1位である都道府県はいずれも北海道である。
- ② キャベツについては、冬に出荷して多くの収益をあげる促成栽培が、四国や九州などで盛んにおこなわれている。
- ③ レタスについては、夏に出荷して多くの収益をあげる抑制栽培が、中央高地や北関東などで盛んにおこなわれている。
- ④ 2000年代以降、野菜の豊作が続いているため、日本の野菜の自給率は100%をこえている。

問5 下線部(オ)に関連して、静岡県の産業について述べた文として誤っているものを、次の①～④の中からひとつ選んで番号で答えなさい。

- ① 富士山の麓で湧き水が豊富に得られることから、パルプ・製紙工場が多い。
- ② 県の西部では、自動車工業のほか、楽器の製造が盛んにおこなわれている。
- ③ 漁業が盛んであり、焼津港は全国有数の水揚げ量となっている。
- ④ みかんの生産が盛んであり、県全体の収穫量は近年全国1位を維持している。

問6 下線部(カ)に関連して、明治期に郡山盆地に水を引くためにファン・ドールンによって用水路がつくられました。その用水路の水源となっている湖を漢字で答えなさい。

問7 次の【地図】に示したように、富士山頂と同緯度の場所を通る線を引いたとします。この線の最も近くに立地している都市としてふさわしいものを、次の①～④の中からひとつ選んで番号で答えなさい。

【地図】



- ① 松山市 ② 和歌山市 ③ 下関市 ④ 岐阜市

問8 富士五湖が形成された原因について述べた文として正しいものを、次の①～④の中からひとつ選んで番号で答えなさい。

- ① 富士山の火山活動にともなう地震によってできた断層面に水がたまった。
② 富士山が噴火して流れ出た溶岩や火砕流が水の流れをせき止めてできた。
③ 富士山の周辺に噴火によってできたカルデラに水がたまった。
④ かつて富士山にあった氷河にけずられてできた谷に水がたまった。

- 2 次の文章は、修学旅行の事前学習の一部です。これを読んで、あとの問いに答えなさい。

長崎県には、たくさんの島があります。この島の多くが、日本と朝鮮半島・中国を結んでいました。たとえば中国の歴史書には、(ア)邪馬台国へ至るまでの行程として壱岐などが登場します。(イ)遣隋使や遣唐使なども、これらの島々を寄港地として利用していました。また、長崎県の島々は、いわゆる(ウ)元寇では戦場となりました。朝鮮半島や中国の沿岸部において、(エ)14世紀の半ばから活動が活発になる、倭寇の根拠地としても、長崎県の島々が登場します。

長崎はアジアとの貿易・外交の拠点であり、(オ)16世紀以降には、ヨーロッパ船も来航するようになります。長崎には多くの宣教師が訪れるようになり、キリスト教に改宗する人も、徐々に増えていきました。しかしやがて、信仰を制限する命令が発せられました。

江戸時代に貿易が制限されるようになると、(カ)海外に向けて開かれた窓口のひとつとして、長崎の役割はますます大きくなりました。同じ頃キリスト教の禁教も厳しくなり、多くの信者が長崎で殉教しました。また、明治政府が掲げた(キ)五榜の掲示でもキリスト教が禁じられました。欧米諸国からの勧告により、キリスト教が黙認されたのは1873年のことでした。

- 問1 下線部(ア)について述べた文として正しいものを、次の①～④の中からひとつ選んで番号で答えなさい。

- ① 邪馬台国について記されている中国の歴史書は、いわゆる『魏志』である。
- ② 纏向遺跡の発掘によって、邪馬台国は北九州にあったことが判明した。
- ③ 邪馬台国には大人や郡司といった身分があった。
- ④ 邪馬台国の女王卑弥呼は中国と対等の外交を開いた。

- 問2 下線部(イ)について述べた文として正しいものを、次の①～④の中からひとつ選んで番号で答えなさい。

- ① 最初の遣隋使が派遣された頃、日本列島では巨大な前方後円墳が盛んにつくられていた。
- ② 遣隋使は、白村江の戦いによって途絶えることになった。
- ③ 最初の遣唐使が派遣された頃、まだ日本では律令は完全に整っていなかった。
- ④ 遣唐使が中止されて以降、万葉仮名を用いた文学作品に代表される国風文化が盛んになった。

問3 下線部(ウ)に関連して、次の【資料】は、「ある御家人」の活躍を描いたものです。「ある御家人」を姓名ともに漢字で答えなさい。

【資料】



宮内庁三の丸尚蔵館 所蔵

問4 下線部(エ)の頃、日明間でおこなわれていた貿易について、日本からの船が正式な貿易船であるかを確認するため、明ではどのような手順がとられましたか。次の【資料】を参考にして、文章で説明しなさい。

【資料】



問5 下線部(オ)のできごとについて述べた文としてふさわしいものを、次の①～④の中からひとつ選んで番号で答えなさい。

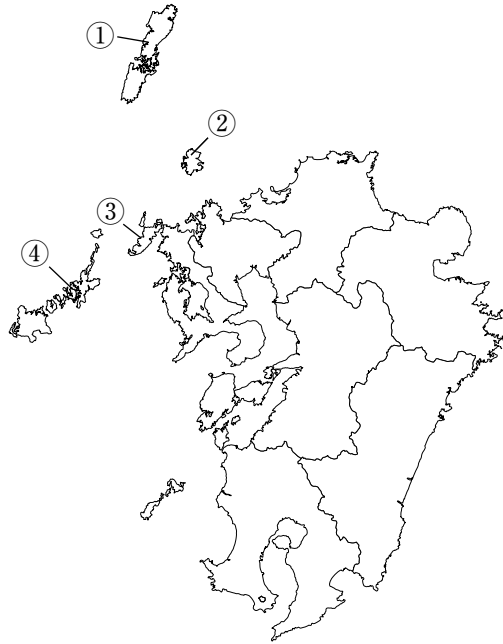
- ① 一向宗門徒が守護を倒した。
- ② 徳川家康が征夷大將軍となった。
- ③ 足利義政が京都の東山に銀閣を築いた。
- ④ 織田信長が足利義昭を京都から追放した。

問6 下線部(力)に関連して、朝鮮との貿易の窓口となっていた長崎県の島について、A・Bそれぞれの問いに答えなさい。

A この島を漢字で答えなさい。

B この島の場所を、次の【地図】中の①～④の中からひとつ選んで番号で答えなさい。

【地図】



問7 下線部(キ)について述べた文として正しいものを、次の①～④の中からひとつ選んで番号で答えなさい。

- ① この内容は、五箇条の誓文の内容に沿ったものである。
- ② この内容は、帝国議会によって審議されたものである。
- ③ この掲示は、立札の形で公布された。
- ④ この書き出しは、天皇が神に誓う形式で書かれている。

3 次の会話は、中学校1年生の教室でかわされたものです。これを読んで、あとの問いに答えなさい。

先生 2012年には (ア) アメリカやフランス、韓国、ロシアなどで大統領選挙がおこなわれ、中国では中国共産党全国代表大会が開催されました。例えば、アメリカ大統領選挙はどのような結果になったか覚えていますか？

生徒 アメリカ大統領選挙では、オバマ大統領が2期目の当選を果たしました。

先生 その通りです。日本でも報道されていましたね。ところで、日本には大統領はおらず、首相だけです。日本は大統領制ではなく、内閣が行政を担当しています。そして、国会が立法を、(イ) 裁判所が司法を担当します。

生徒 この前の授業で教わりました。内閣を構成するのは、(ウ) 内閣総理大臣つまり首相と、国務大臣です。ね。

先生 よく復習していますね。アメリカでは、大統領は国民による間接選挙で選出されます。それに対して日本の内閣総理大臣は、されます。

生徒 だから、(オ) 国会で多数派を占める政党から内閣総理大臣が選出される場合が多いのですね。

先生 その通りです。いまだに日本では、女性の内閣総理大臣は誕生していませんが、2012年には、(カ) 韓国初の女性大統領が誕生しましたね。

生徒 私もいつか、社会に貢献できる女性として活躍したいという夢を持っているので、女性が新たな道を切り開いていく姿は、私たちに勇気を与えてくれます。

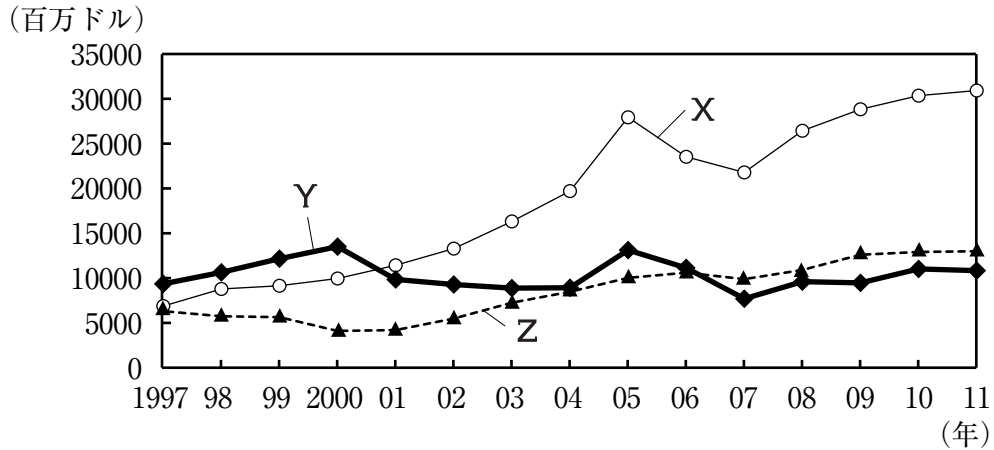
先生 素敵な夢ですね。最近、女性がさまざまな分野で活躍する場面をみかける事が増えてきました。日本では、男女問わず子育てや介護をしながら働き続けられるように、育児・介護休業法の整備や (キ) 保育所待機児童の解消に向けての対策がなされています。

生徒 女性が活躍できる機会が増えるのはとてもよいことだと思います。しかし発展途上国では、女性の社会への進出が困難である場合や、女性の (ク) 基本的人権が保障されていない場合も少なからずあるようで、とても心が痛みます。

先生 その通りですね。私たちに何ができるのか考え、行動していくことが大切です。

問1 下線部(ア)に関連して、次の【資料】は日本、アメリカ、フランスの政府開発援助(O DA)実績の推移を示したものです。【資料】中のX~Zにあてはまる国の組み合わせとして最もふさわしいものを、次の①~⑥の中からひとつ選んで番号で答えなさい。

【資料】



(財務省「G7諸国ODA実績推移」より作成)

- | | | |
|----------|--------|--------|
| ① X—日本 | Y—フランス | Z—アメリカ |
| ② X—フランス | Y—アメリカ | Z—日本 |
| ③ X—アメリカ | Y—日本 | Z—フランス |
| ④ X—日本 | Y—アメリカ | Z—フランス |
| ⑤ X—フランス | Y—日本 | Z—アメリカ |
| ⑥ X—アメリカ | Y—フランス | Z—日本 |

問2 下線部(イ)に関連して述べた文として正しいものを、次の①~④の中からひとつ選んで番号で答えなさい。

- ① 民事裁判では、裁判や弁護士費用は必ず国が負担する。
- ② 民事裁判における第一審は、裁判員制度の対象となる。
- ③ 刑事裁判では、犯罪の被害者に代わって警察が原告の立場で訴えを起こす。
- ④ 刑事裁判で無罪が確定した場合には、国に補償を求めることができる。

問3 下線部(ウ)に関連して述べた文として誤っているものを、次の①~④の中からひとつ選んで番号で答えなさい。

- ① 閣議の議決は全会一致によることとされている。
- ② 国務大臣の3分の2以上は国会議員の中から選出されなければならない。
- ③ 内閣総理大臣と国務大臣は、すべて文民でなければならない。
- ④ 内閣総理大臣は国務大臣の任命権をもち、また、その任を解く権限をもつ。

問4 空欄 (工) にあてはまる文章を日本国憲法における内閣総理大臣の指名・任命についての規定にふれて答えなさい。

問5 下線部 (オ) に関連して、2004年～2013年の10年間で、複数の内閣総理大臣が就任しています。この期間における内閣総理大臣のうち、最も多くの内閣総理大臣が所属していた政党の正式名称を答えなさい（この期間内に、内閣総理大臣に複数回就任している人も1人と数えます）。

問6 下線部 (カ) に就任した人物を姓名ともに答えなさい。

問7 下線部 (キ) のひとつとして、国は2006年から「認定こども園」制度を開始しました。これはふたつの省が、幼稚園と保育所などの長所を活かしてより充実した仕組みづくりに取り組んだものです。このふたつの省の正式名称をそれぞれ漢字で答えなさい。

問8 下線部 (ク) に関連して、A・Bそれぞれの問いに答えなさい。

A 社会権に関連して述べた文として正しいものを、次の①～④の中からひとつ選んで番号で答えなさい。

- ① 社会権は人間らしく生きる権利のことであり、裁判を受ける権利も社会権に含まれる。
- ② 人間らしい生活環境を享受するという環境権は、社会権の一部として憲法に明記されている。
- ③ 社会権のひとつとして、団結権や団体交渉権、団体行動権といった労働三権がある。
- ④ 日本国民は、教育を受ける権利をもつとともに、教育を受ける義務を負う。

B 「精神の自由」に含まれないものを、次の①～④の中からひとつ選んで番号で答えなさい。

- | | |
|------------|-----------|
| ① 思想・良心の自由 | ② 学問の自由 |
| ③ 表現の自由 | ④ 職業選択の自由 |

