

平成24年度 入学試験問題

社 会

第 2 回

|||||【注 意】|||||

試験時間は理科とあわせて60分です。(11:10～12:10)

問題は1ページから8ページまでです。

解答はすべて解答用紙に記入してください。

解答用紙に受験番号、氏名を記入してください。

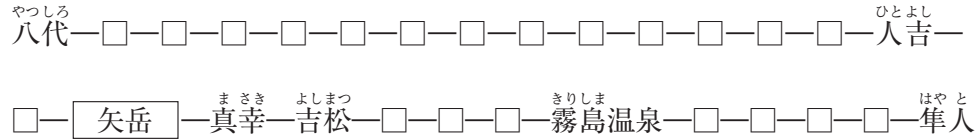
|||||



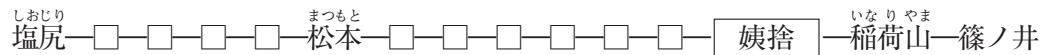
洗足学園中学校

- 1 次の【資料1】・【資料2】は、列車からの絶景スポットといわれる場所から撮影した写真と、その場所を含む路線の路線図です。これを見て、あとの問いに答えなさい。（資料中の□は駅を表す）

【資料1】 肥薩線の路線図と、矢岳駅付近における車窓



【資料2】 篠ノ井線の路線図と、姨捨駅における車窓



問1 【資料1】の八代駅付近において、夏は水田が広がっていますが、冬になると稲とは異なる農作物が栽培されているのを目にします。八代駅のある県は、この農作物を日本で最も多く生産しています。この農作物を答えなさい。

問2 【資料1】の八代駅から人吉駅までの間は、夏には車窓から川下りの様子を見ることができ、この河川にちなんで名づけられた特急列車も走っています。この河川として最もふさわしいものを、次の①～④の中からひとつ選んで番号で答えなさい。

- ① 球磨川 ② 筑後川 ③ 大淀川 ④ 太田川

問3 【資料1】の矢岳駅で少し停車時間があつたので、駅のすぐ脇にあるSL展示館で蒸気機関車を見ることができました。蒸気機関車の動力源である石炭について述べた文として誤っているものを、次の①～④の中からひとつ選んで番号で答えなさい。

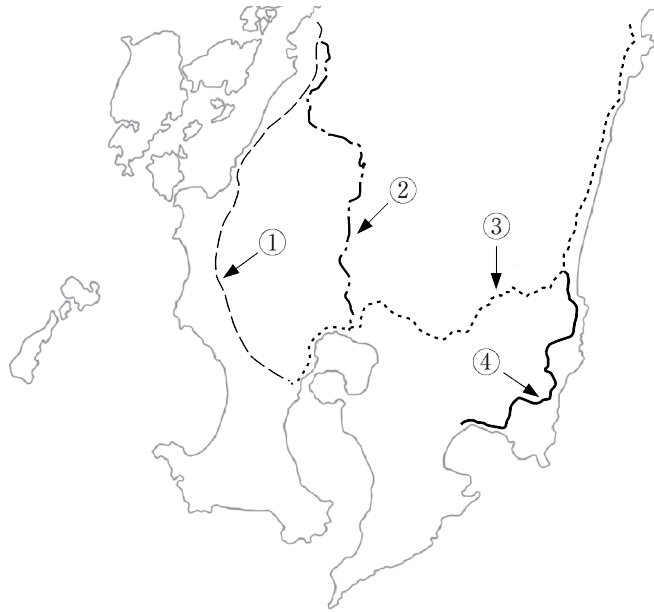
- ① 1960年の日本の石炭の自給率は約90%であった。
② 現在、日本の石炭の自給率は約10%である。
③ 現在、日本は世界最大級の石炭輸入国である。
④ 現在、日本の石炭の最大の輸入先はオーストラリアで、総輸入量の60%以上を占めている。

問4 【資料1】の吉松駅から隼人駅まで特急「はやとの風」に乗りました。その車中、車掌さんからお土産に桜島の灰をもらいました。この付近の土壌は、かつて桜島付近に存在した火山からの噴出物で形成されています。この地域の農業について述べた文としてふさわしくないものを、次の①～④の中からひとつ選んで番号で答えなさい。

- ① 飼料作物を栽培し、豚やブロイラーなどの飼育が盛んである。
② 雨水がしみこみやすい土壌であるため、稲作には不向きである。
③ 1950年代から灌漑事業が進められ、野菜の栽培が盛んになった。
④ 農業に適さない泥炭地であるため、客土が盛んにおこなわれた。

問5 【資料1】の路線を示すものを、【地図】中の①～④の中からひとつ選んで番号で答えなさい。

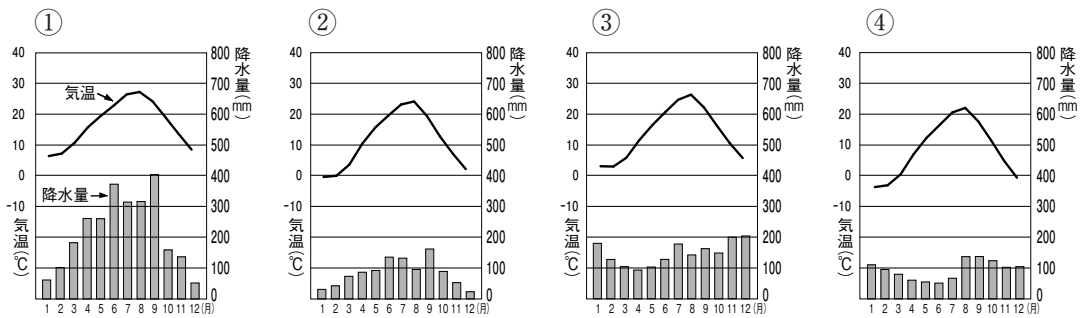
【地図】



問6 【資料2】の路線が走る県と隣接している県を全て挙げているものを、次の①～④の中からひとつ選んで番号で答えなさい。

- ① 新潟 富山 岐阜 静岡 山梨
- ② 新潟 富山 岐阜 静岡 山梨 群馬
- ③ 新潟 富山 岐阜 愛知 静岡 山梨 群馬
- ④ 新潟 富山 岐阜 愛知 静岡 山梨 埼玉 群馬

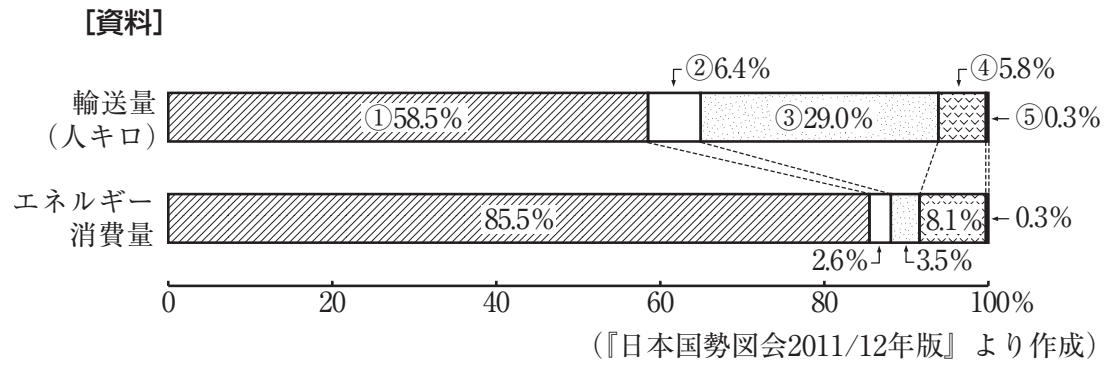
問7 【資料2】の松本駅に関連して、松本市における月別の平均気温と降水量を示しているグラフを、次の①～④の中からひとつ選んで番号で答えなさい。



(『理科年表 平成23年』より作成)

問8 【資料2】に関連して、この路線がある県には、第二次世界大戦中に東京大都市圏から精密機械工場が移転してきました。しかし、近年は海外に工場を移転する企業があらわれました。その理由について文章で説明しなさい。

問9 次の【資料】は、輸送機関別輸送量（旅客輸送）とエネルギー消費の割合を示したものです。【資料】中の①～⑤には、鉄道、乗用車等（自家用貨物車を含む）、バス、航空、旅客船のいずれかがあてはまりますが、このうち鉄道にあたるものを、次の①～⑤の中からひとつ選んで番号で答えなさい。



2 次の文章を読んで、あとの問いに答えなさい。

歴史上、重要な建物や絵について学ぶとき、「国宝」という言葉を目にします。

一説によると、日本において「国宝」という概念を最初に用いた人物は、(ア) モースの推薦で来日したフェノロサというアメリカ人であるとされています。フェノロサは、日本の古美術調査を依頼されて、(イ) 明治19年、奈良・京都を訪れました。その際の報告書の中で「国宝」という概念を用いたとされています。

その後、しばしば文化財が国外に流出したことや、法隆寺金堂で火災がおこったことをきっかけとして、1950年、(ウ) 文化財保護法が制定されました。この法律の制定にともない、国宝は新たに指定しなおされました。

一口に国宝といっても、人が入れるほどの大きなものから、手のひらに乗るほどの小さなものまであります。大きなものとしては、東大寺大仏殿や、(エ) 徳川家光が再建した(オ) 東寺の五重塔などがあります。一方で、小さなものとしては、田沼意次が老中であった頃に発見された志賀島の金印や、興福寺に伝えられる砂金、近江神宮に伝わる直径1.5ミリほどの舍利(シャカの骨)などがあります。

ところで、著名な建物や絵であるにもかかわらず、国宝に指定されていないものもあります。例えば、主に宮内庁管理下にある皇室の所有物などは、国宝には指定されていません。そのため、(カ) 元寇を描いた「蒙古襲来絵詞」や、正倉院に保管されている(キ) 聖武天皇の遺品などは国宝ではありません。また、放火によって全焼し、のちに再建された(ク) 金閣も、現在国宝には指定されていないのです。

文化財は、自然災害や人災により傷つけられたりすることがあります。私たちは、祖先が長い間伝えてきた、国宝をはじめとする文化財をしっかりと守っていきたいものです。

問1 下線部(ア)に関連して、明治初期に日本政府が多くの外国人を日本に招いた主な理由を文章で説明しなさい。

問2 下線部(イ)に、イギリス船が和歌山県沖で沈没し、日本人が多数亡くなった事件をきっかけに、条約改正を求める声が高まりました。このイギリス船を答えなさい。

問3 下線部(ウ)が制定されたときの内閣総理大臣の在職期間のできごととしてふさわしくないものを、次の①～④の中からひとつ選んで番号で答えなさい。

- ① 朝鮮戦争によって特需景気がおこった。
- ② 日米安全保障条約改定をめぐって、安保闘争がおこった。
- ③ 警察予備隊が創設された。
- ④ サンフランシスコ平和条約が調印された。

問4 下線部(工)の将軍在職期間におこなわれた政策について述べた文として最もふさわしいものを、次の①～④の中からひとつ選んで番号で答えなさい。

- ① 日本人が海外に渡航^{とこう}することと、海外から帰国することを禁止した。
- ② 江戸の湯島に聖堂を建てて孔子をまつた。
- ③ 漢訳した洋書の輸入の制限をゆるめた。
- ④ 禁中並公家諸法度を制定して朝廷を統制した。

問5 下線部(才)に関連して、空海について述べた文として誤^{まちが}っているものを、次の①～④の中からひとつ選んで番号で答えなさい。

- ① 学問僧として唐に派遣^{はけん}された。
- ② 密教を重視して、真言宗を開いた。
- ③ 高野山に金剛峰寺を開いた。
- ④ 清和天皇らとともに「三筆」^{しやう}と称された。

問6 下線部(力)に関連して、日本に兵を送ったモンゴルの皇帝を答えなさい。

問7 下線部(キ)の皇后について述べた文として最もふさわしいものを、次の①～④の中からひとつ選んで番号で答えなさい。

- ① 道鏡を登用したため、仏教の影響力^{えいきやう}が強くなった。
- ② 『古今和歌集』の編纂^{へんざん}を命じた。
- ③ 貧しい人や病人のために施薬院・悲田院を設けた。
- ④ 『万葉集』の編纂を命じた。

問8 再建前の下線部(ク)を建てた人物について述べた文として最もふさわしいものを、次の①～④の中からひとつ選んで番号で答えなさい。

- ① 全国の半分以上の荘園を手に入れた。
- ② 国内の経済を盛ん^{さか}にするため、関所^{はいし}を廃止した。
- ③ 東求堂に書院造の同仁齋をつくった。
- ④ 能楽を大成した観阿弥・世阿弥父子を保護した。

- 3 次の文章は、2011年4月10日におこなわれた神奈川県知事選挙で当選した黒岩祐治^{ゆうじ}氏の「知事就任のごあいさつ」(『県のたより5月号』採録)の一部抜粋です。これを読んで、あとの問いに答えなさい。(一部ふりがなをつけた部分があります。)

県政を取り巻く環境は、大変厳しい状況^{じょうきょう}にあります。高齢化が全国を上回るスピードで進展し、本格的な(ア)人口減少社会^{じんこうげんしょう}に向けた社会システムの構築^{おこた}を怠^{おこた}りなく進めなければなりません。(イ)税と(ウ)社会保障^{しやうほく}の一体改革についても、実務を担^{にな}う(エ)地方自治体^{ちほうじ}には大きな問題となつてのしかかっています。一方で、(オ)グローバル化^{ぐローバルか}のスピードは速く、経済連携^{けいぎれんけい}に向けた動きも急激に進んでおり、今後わが国の産業構造は大きく変化していくことが見込まれています。

(中略)

最優先で取り組みたい政策は、神奈川県からエネルギー革命を起こすことです。(カ)全回の大震災^{おほいぶく}を受けて、(キ)電力需給^{でんりききゅう}の逼迫^{ひつぱく}が大きな課題となつており、太陽光など新エネルギーへの転換^{てんかん}が急務となっています。

- 問1 下線部(ア)に関連して、日本政府が少子化対策としておこなっている施策^{しざく}について述べた文としてふさわしくないものを、次の①～④の中からひとつ選んで番号で答えなさい。

- ① 保育所待機児童を解消するための政策をおこなう。
- ② 妊娠・出産を理由とする離職者の再就職支援に努める。
- ③ 男性の育児休暇の取得促進に努める。
- ④ 女性の時間外・休日労働を禁止し、育児時間の確保に努める。

- 問2 下線部(イ)について述べた文として正しいものを、次の①～④の中からひとつ選んで番号で答えなさい。

- ① 所得税などで採用されている累進課税制度は、若者世代ほど税率を低くすることによって世代間の所得の差を調整するものである。
- ② 消費税は、所得に関係なく課税されるため、低所得者の所得に対する税負担の割合が大きくなる。
- ③ 現在の国の税収全体に占める直接税と間接税の比率は、直接税が90%以上を占めており、アメリカと同じく直接税の割合が高くなっている。
- ④ 国民が納める全ての税は、まず国に納められ、地方公共団体には、国から地方交付税として分配される。

- 問3 下線部(ウ)について、国民の健康増進をはかり、感染症^{かんせんしやう}などの予防を目指す社会保障制度を、漢字で答えなさい。

問4 下線部(工)に関連して述べた文として誤っているものを、次の①～④の中からひとつ選んで番号で答えなさい。

- ① 住民の過半数の署名があれば、市長は辞職をしなければならない。
- ② 地方議会は一院制を採用しており、議員は住民による選挙で選ばれる。
- ③ 村長として立候補できる者は、満25歳以上の日本国民である。
- ④ 憲法や法律に反しない範囲で、地方議会は条例を制定することができる。

問5 下線部(才)に関連して、貿易の自由化を目的として1995年に発足した国際機関の略称として最もふさわしいものを、次の①～④の中からひとつ選んで番号で答えなさい。

- ① WHO
- ② IMF
- ③ ILO
- ④ WTO

問6 下線部(力)は、2011年3月11日に発生した東日本大震災のことを指しています。これに関連して、A・Bそれぞれの問いに答えなさい。

A がれきの処理をおこなう自治体の中には、がれきの処理が所有者の権利を侵害する恐れがあるということで、がれき処理をためらうこともあるようです。ここでいう権利とは、憲法第29条で保障されている権利のことですが、その権利を漢字で答えなさい。

B 前問Aの権利の内容について、次の日本国憲法第29条の条文中の空欄Xにあてはまる語句を漢字で答えなさい。

Xの福祉に適合するやうに、法律でこれを定める。

問7 下線部(キ)に関連して、現在の日本の電力供給について述べた文として正しいものを、次の①～④の中からひとつ選んで番号で答えなさい。

- ① 水力発電は、電力需要が多い大都市近郊でおこなわれている。
- ② 発電燃料の多くを自給できているため、諸外国よりも電気料金が安い。
- ③ 最も総発電量が多い発電の種類は火力発電である。
- ④ 太陽光・風力・潮力・地熱による電力供給の規模は、水力発電に匹敵する。