

# 平成23年度 入学試験問題

## 社 会

### 第 2 回

|||||【注 意】|||||

試験時間は理科とあわせて60分です。(11:10~12:10)

問題は1ページから9ページまでです。

解答はすべて解答用紙に記入してください。

解答用紙に受験番号、氏名を記入してください。

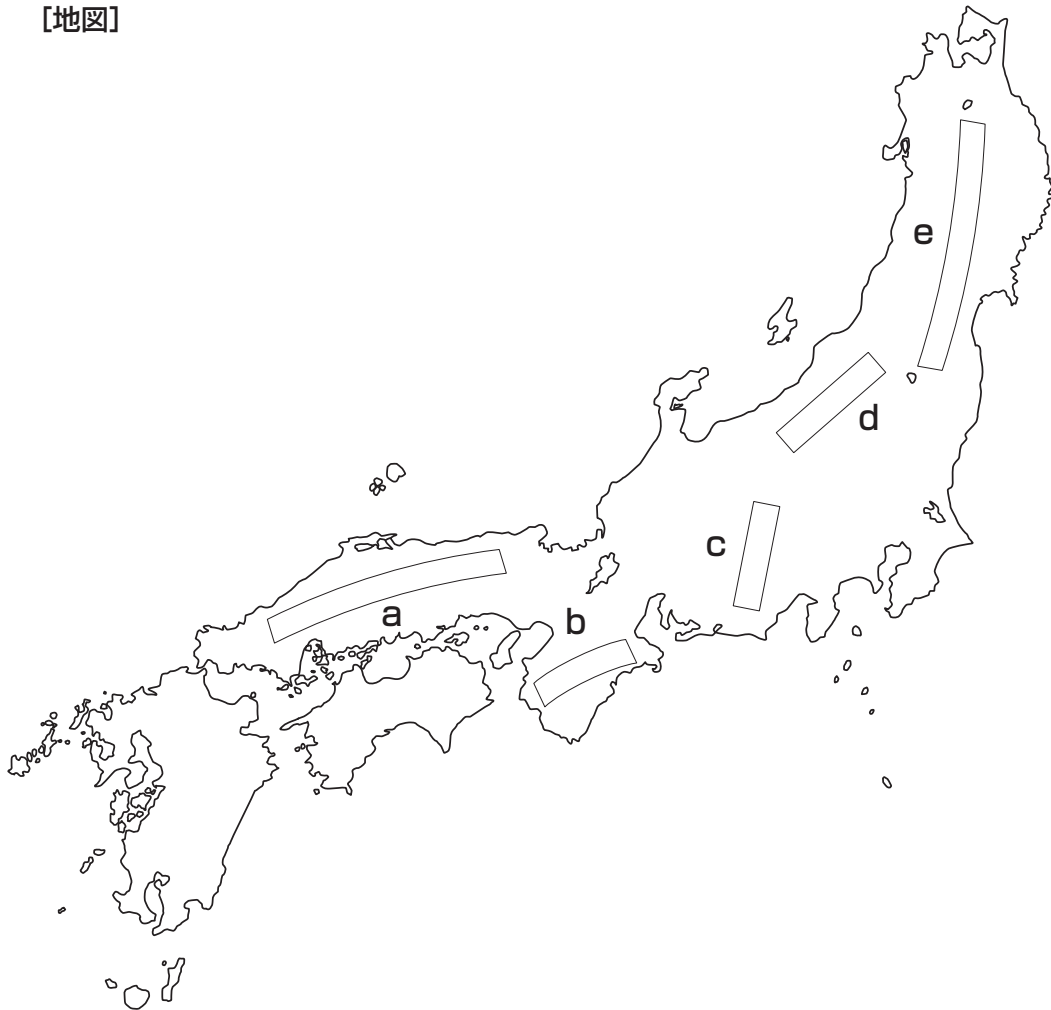
|||||



洗足学園中学校

- 1 次の文章Ⅰ～Ⅲは、[地図]中のa～eのいずれかの山地・山脈とその周辺の都道府県について説明したものです。文章を読んで、あとの問いに答えなさい。

[地図]



- Ⅰ この山脈は、最も標高が高い地点で標高2000mほどです。この山脈の東側に位置する県のほぼ中央部には、火山噴出物がせき止めてできた、面積が日本第4位の湖があります。(ア) この湖の西側に広がっている盆地では稲作が盛んであり、伝統工業も発達してきました。この県に源流をもち日本海に注ぐ河川には、多数のダムが建設され、(イ) 水力発電がおこなわれています。また、かつて (ウ) この河川の流域では四大公害病のひとつが発生しました。
- Ⅱ この山脈は、標高3000mを超える山頂が連続する山脈です。この山脈の南側に位置する  県では、温暖な気候のもとで果樹栽培がおこなわれるなど、農業が盛んです。工業では、(オ) 紙・パルプや自動車・オートバイなどの輸送用機械の出荷額が日本有数となっています。
- Ⅲ この山地は、最も標高が高い地点でも2000m未満です。この山地の北側に位置する県では、村落の人口が流出し、社会生活の維持が困難になる  化が深刻な問題となっています。また、(キ) この県の北側にある湖は日本第5位の面積を有しています。

問1 下線部(ア)の地域における、主要な伝統的工芸品について述べた文として最もふさわしいものを、次の①～④の中からひとつ選んで番号で答えなさい。

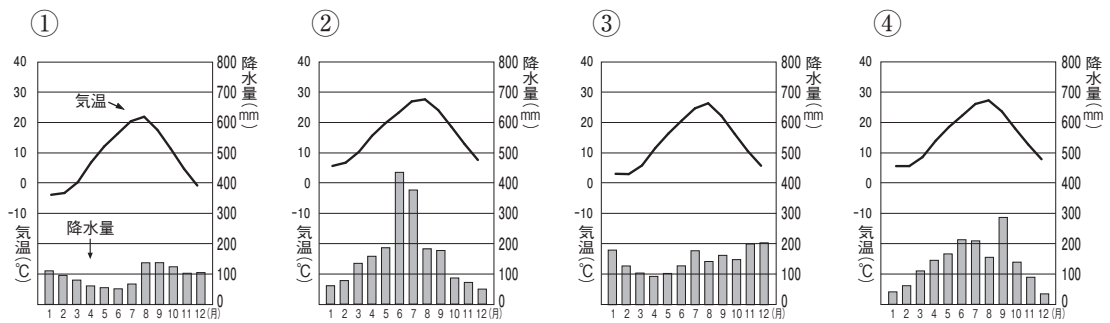
- ① 麻織物が生産されている。
- ② 漆器が生産されている。
- ③ 絹織物が生産されている。
- ④ 将棋の駒が生産されている。

問2 下線部(イ)には、発電後の送電による電力の損失が比較的大きいという問題点があります。その理由を文章で説明しなさい。

問3 下線部(ウ)に関連して、A・Bそれぞれの問いに答えなさい。

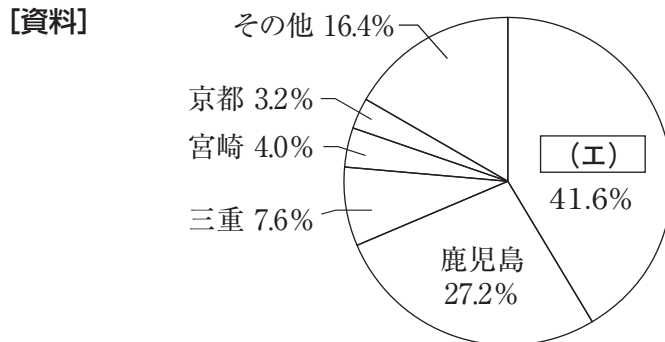
A この公害病を答えなさい。

B この河川の河口にある県庁所在地における月別の平均気温と降水量を示しているグラフを、次の①～④の中からひとつ選んで番号で答えなさい。



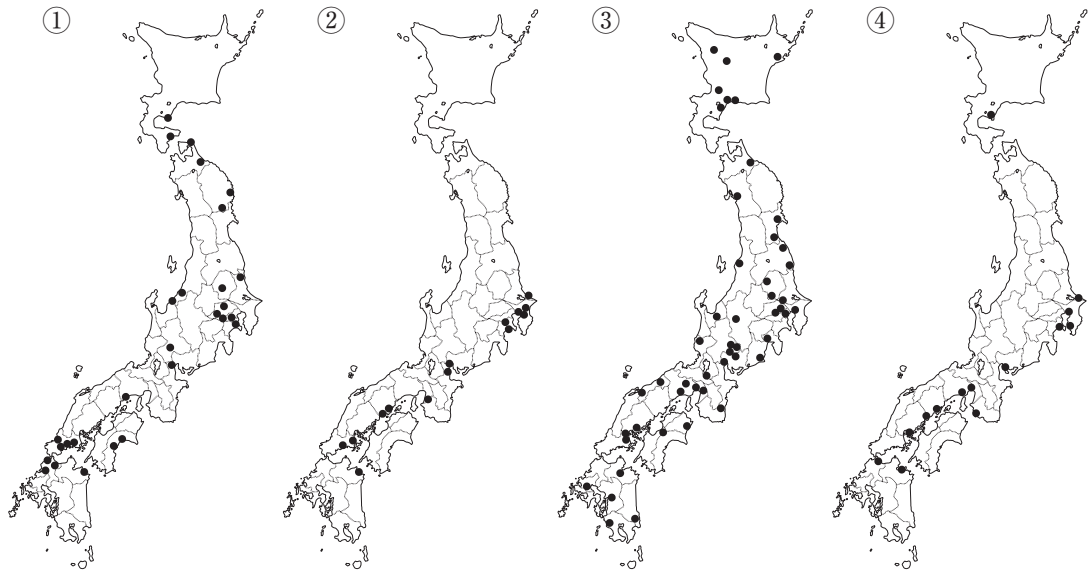
(『理科年表 平成22年』より作成)

問4 次の【資料】は、空欄(工)県で生産が盛んな農作物の都道府県別生産量の割合を示したものです。この農作物を答えなさい。



(『日本国勢図会2010/11年版』より作成)

問5 下線部(オ)に関連して、この工場の立地を示したものを、次の①～④の中からひとつ選んで番号で答えなさい。



(『日本国勢図会 2010/11年版』より作成)

問6 空欄(力)にあてはまる語句を答えなさい。

問7 下線部(キ)について述べた文として最もふさわしいものを、次の①～④の中からひとつ選んで番号で答えなさい。

- ① 現在は海水が入り込むようになった湖であり、全国有数のウナギの産地である。
- ② 砂州が発達してできた湖であり、全国有数のホタテの産地である。
- ③ 砂州が発達してできた湖であり、干拓事業が中止になった。
- ④ フナなどの養殖がおこなわれているが、外来種による生態系の破壊が深刻化している。

問8 文章Ⅰ～Ⅲの山地・山脈と【地図】中のa～eの山地・山脈の組み合わせとして正しいものを、次の①～⑥の中からひとつ選んで番号で答えなさい。

- |   |       |        |         |
|---|-------|--------|---------|
| ① | I - b | II - c | III - a |
| ② | I - b | II - d | III - e |
| ③ | I - d | II - b | III - e |
| ④ | I - d | II - c | III - a |
| ⑤ | I - e | II - c | III - a |
| ⑥ | I - e | II - d | III - c |

2 次の文章は、神戸市出身の先生が自身の出身地について話したものです。これを読んで、あとの問いに答えなさい。

神戸市立博物館には、市内から出土したさまざまな考古資料が所蔵されています。なかでも (ア) 灘区の桜ヶ丘遺跡から出土した銅鐸と銅戈は考古学上貴重な資料です。また、ここでは兵庫県下最大の前方後円墳である、五色塚古墳の模型を見ることもできます。

現在の神戸市にあたる地域は古代から水陸の交通の要地で、さまざまな歴史上の人物が訪れました。景勝の地として知られる布引の滝や海と山に囲まれた須磨は、多くの文学作品の中に描かれています。また、日本三古湯のひとつとされる有馬温泉には、社会事業に力を尽くし、東大寺大仏建立に協力した僧 (イ) が開いたとされる寺があり、鎌倉時代のはじめには (ウ) 藤原定家も訪れました。(エ) 豊臣秀吉も有馬温泉を愛し、何度も訪れたようです。

この地域が港町として発展するのは、12世紀に平清盛が (オ) を修築し、日宋貿易の拠点としたことがそのはじめとされます。その後、この港は兵庫津とよばれるようになり、(カ) 室町時代には遣明船の発着地となって中国の物産が荷揚げされ、朝鮮や琉球の船が来航する国際色豊かな貿易港となりました。

兵庫津は、応仁の乱以降一時は衰退しましたが、江戸時代には西廻り航路が開かれたのを機に、大坂の外港として再び繁栄を取り戻していきます。(キ) 蝦夷地との交易も盛んになり、さまざまな産物が運ばれました。また、将軍の代替わりごとに朝鮮からおくられてきた通信使の多くも兵庫津に滞在しました。

1858年に結ばれた (ク) 日米修好通商条約では、兵庫は開港場のひとつとされましたが、実際に開港したのはその東に隣接する神戸でした。外国人が住む地域である居留地では、道路が整備され、ガス灯がともされて、貿易が活発におこなわれたといえます。

その後、神戸はマッチや造船業などの工業も生まれて国内の近代化の先駆けとなりました。多くの (ケ) 外国船の発着地となり、第一次世界大戦中には輸出入総額が国内第一の貿易港へと成長しましたが、第二次世界大戦末期の神戸大空襲では大きな被害を受けました。

神戸メリケンパークの一角には、阪神・淡路大震災で崩壊したメリケン波止場の一部が当時のままに保存されています。歴史の中で神戸は何度も大きな危機に見舞われながらも、その都度見事に復興を果たしてきました。2006年には新たな港として神戸空港も開港しました。港町神戸は新たな交通の起点として今後ますます発展が期待されています。

問1 下線部 (ア) のような青銅器が日本で盛んにつくられた時代について述べた文として最もふさわしいものを、次の①～④の中からひとつ選んで番号で答えなさい。

- ① 木製のくわや田げたがつくられた。
- ② 近畿地方に巨大な古墳がつくられた。
- ③ 渡来人により、養蚕・機織りや鍛冶などの技術が日本列島に伝えられた。
- ④ 口分田が不足したため、開墾が奨励された。

問2 空欄〔イ〕にあてはまる人物を漢字で答えなさい。

問3 下線部(ウ)が活躍した時代について述べた文として最もふさわしいものを、次の①～④の中からひとつ選んで番号で答えなさい。

- ① 後鳥羽上皇の命によって和歌集が編集された。
- ② 九州を警備するために防人が置かれた。
- ③ 身分の下の者が上の者を倒して勢力をのばしていく風潮が広まった。
- ④ 中国との正式な国交が途絶え、文化が国風化していった。

問4 下線部(エ)がおこなったこととしてふさわしくないものを、次の①～④の中からひとつ選んで番号で答えなさい。

- ① 武士・町人・農民の身分をはっきり区別し、身分を固定した。
- ② イギリス人ウィリアム＝アダムズを外交顧問とした。
- ③ 一揆を防ぐため、農民から武器をとりあげた。
- ④ 大坂城を築き、天下統一への本拠地とした。

問5 空欄〔オ〕にあてはまる港を漢字で答えなさい。

問6 下線部(カ)について、中国からの主な輸入品としてふさわしくないものを、次の①～④の中からひとつ選んで番号で答えなさい。

- ① 生糸
- ② 陶磁器
- ③ 銅銭
- ④ 刀剣

問7 江戸時代の下線部(キ)に関連して述べた文としてふさわしくないものを、次の①～④の中からひとつ選んで番号で答えなさい。

- ① 田沼意次は蝦夷地の開発のために調査をさせた。
- ② 蝦夷地から大坂方面に北前船が運行された。
- ③ アイヌは松前藩と不利な条件で交易をさせられた。
- ④ 間宮林蔵は蝦夷地を測量して、精密な地図をつくった。

問8 下線部(ク)によって新たに開港が決められた場所としてふさわしくないものを、[地図]中の①～④の中からひとつ選んで番号で答えなさい。

[地図]



問9 下線部(ケ)に関連して、リットン調査団は神戸を出発し中国に入りました。国際連盟でこの調査団の報告書に基づく勸告案が採択されたことに対して、のちに日本政府はどのような行動をとりましたか。文章で説明しなさい。

**3** 次の文章は先生と生徒の会話です。これを読んで、あとの問いに答えなさい。

**先生** 今日は、政治とお金の問題についてみなさんと一緒に考えたいと思います。2010年1月、国会が開かれる直前に、(ア) 民主党の小沢一郎氏の秘書をしていた人たちが東京地検特捜部に逮捕されました。政治資金規正法に違反した疑いがあるというのがその理由です。逮捕された人の中に現職の国会議員がいたこともあり、たびたびニュースでとりあげられましたが、覚えていますか？

**生徒 a** 小沢一郎氏や鳩山由紀夫元内閣総理大臣への非難が高まり、(イ) 内閣支持率が下がったのを覚えています。

**生徒 b** 政治資金規正法とはどのような法律ですか？

**先生** 政治家が政治活動をする上でかかるお金を政治資金といいます。国会議員の場合、1年間に多額の政治資金が必要になるといわれています。(ウ) 選挙がおこなわれた場合、さらに多くのお金が必要になります。このお金を政治家ひとりだけの力ではとても集められないので、支援者や支援団体から寄付を受けることが多くあります。こうして集めた政治資金を正しく管理するためのルールを定めたものが、政治資金規正法です。今回のケースでは、この法律に基づいて国に提出された管理報告書に誤りがあったのではと疑われたために、(エ) 国会でも与党の責任が厳しく追及されました。

**生徒 a** 政治家の不正というと、東京地検特捜部という言葉をもとにしますが、どんな機関ですか？

**先生** 東京地方検察庁特別捜査部のことです。組織の上では(オ)省のもとに置かれています。特捜部は、警察とは別に重大な汚職や脱税などに関する事件を独自に捜査する機関です。(カ) 過去に、元内閣総理大臣の政治家や、政府の高官、企業のトップの人たちを逮捕したこともあります。(キ) 犯罪を犯した疑いがある人は、検察官によって起訴されます。しかしごくまれですが、検察が不起訴とした人物が、検察審査会の起訴議決により(ク) 裁判所が指定した弁護士に起訴されるという場合もあります。

**生徒 a** 政治とお金にまつわる問題はこれまでもあったのですね。(ク) 国民が政治に不信感をもたないためにも、もうこういう問題は起こさないでほしいですね。

**問 1** 下線部 (ア) に関連して、鳩山由紀夫内閣発足当時に、民主党と連立政権を組んでいた政党の組み合わせとしてふさわしいものを、次の①～④の中からひとつ選んで番号で答えなさい。

- ① 国民新党と社会民主党
- ② 日本共産党と公明党
- ③ 公明党と社会民主党
- ④ 国民新党とみんなの党



問2 下線部(イ)について、日本国憲法第66条第3項では次のように規定されています。条文中の空欄  ・  にあてはまる語句を、それぞれ漢字で答えなさい。

内閣は、行政権の行使について、  に対し  して責任を負ふ。

問3 下線部(ウ)に関連して、次の【資料】は、2010年7月に実施された参議院議員選挙における、選挙区ごとの議員ひとりあたりの有権者数を少ない順に並べたものです。【資料】を見て、この選挙での問題点を文章で説明しなさい。

【資料】

順位	選挙区	議員ひとりあたりの有権者数 (人)
1	鳥取県	485912
2	島根県	593860
3	高知県	640959
4	福井県	653503
5	徳島県	658828
⋮		
43	東京都	2124102
44	兵庫県	2271462
45	北海道	2302281
46	大阪府	2363096
47	神奈川県	2431520
	全国平均	1425057

(総務省「都道府県別有権者数、投票者数、投票率(選挙区)」をもとに作成)

問4 下線部(エ)に関連して、国会は必要に応じて、書類の提出や証言を求めることができます。この権限を漢字で答えなさい。

問5 空欄  省が担当する仕事として最もふさわしいものを、次の①～④の中からひとつ選んで番号で答えなさい。

- ① 各都道府県警察を監督する。
- ② 海上の安全を守る。
- ③ 国民の人権を守り、人権についての正しい知識を普及させる。
- ④ 国民年金を運営する。

問6 下線部(力)に関連して、かつてロッキード事件とよばれる汚職事件の際に逮捕された元内閣総理大臣を姓名ともに漢字で答えなさい。

問7 下線部(キ)に関連して、刑事裁判を受ける人の権利として誤っているものを、次の①～④の中からひとつ選んで番号で答えなさい。

- ① 自分に不利なことは証言しなくてもよい。
- ② 弁護士をつけることができる。
- ③ 公開の法廷で裁判を受けることができる。
- ④ 裁判員裁判を受けるかどうかを選ぶことができる。

問8 下線部(ク)に関連して、裁判官について述べた文として正しいものを、次の①～④の中からひとつ選んで番号で答えなさい。

- ① 最高裁判所の長官は、内閣の指名に基づき、天皇によって任命される。
- ② 最高裁判所の裁判官は、最高裁判所の長官の許可がない限り、逮捕されない。
- ③ 憲法に違反するかどうかについて判決を下した裁判官は、必ず国民審査を受けなければならない。
- ④ 裁判官は良心のみに従って裁判をおこない、判決を下すことができる。

問9 下線部(ケ)に対して、日本国憲法が求めていることとしてふさわしくないものを、次の①～④の中からひとつ選んで番号で答えなさい。

- ① 憲法を尊重し擁護すること。
- ② 自由と権利を常に公共の福祉のために利用すること。
- ③ 自由と権利を不断の努力によって保持すること。
- ④ 保護する子女に普通教育を受けさせること。



